

Mathématiques

Semestre 2

Travaux Dirigés Mathématiques

Année 2024-2025

Nom :
Prénom :
Groupe :

La confiture n'est bonne que s'il faut monter sur une chaise pour attraper le pot dans le placard.
A Vialatte

Table des matières

| | |
|----------------------------------|----|
| 1 Fonctions réciproques | 2 |
| 2 Systèmes linéaires et matrices | 6 |
| 3 Polynômes | 9 |
| 4 Calcul intégral - Partie 1 | 13 |
| 5 Calcul intégral - Partie 2 | 17 |
| 6 Transformée de Laplace | 20 |
| 7 Suites numériques | 25 |
| 8 DS de l'année 2023-2024 | 28 |
| 9 DS de l'année 2022-2023 | 33 |
| 10 DS de l'année 2021-2022 | 39 |

Chapitre 1

Fonctions réciproques

Exercice 1 *Ensemble image*

On considère la fonction $f(t) = (t - 1)^2 - 2$

1. Déterminer l'image par f de l'intervalle $]2, 3[$.
2. Déterminer l'image par f de l'intervalle $] - 2, 0[$.
3. Déterminer l'image par f de l'intervalle $] - 1, 3[$.
4. Déterminer l'image par f de l'intervalle $] - \infty, 2[$.

Exercice 2 *Fonctions bijectives*

1. La fonction $t \mapsto t - 1 + e^{-t}$ est-elle bijective de \mathbb{R} dans \mathbb{R} ? De \mathbb{R}^+ dans \mathbb{R}^+ ?
2. La fonction $t \mapsto \frac{2t + 1}{t - 4}$ est-elle bijective de $\mathbb{R} \setminus \{4\}$ dans \mathbb{R} ?
3. Déterminer deux ensembles D et E tels que la fonction $t \mapsto \frac{t}{1 + t^2}$ soit bijective de D dans E .

Exercice 3

1. Donner un exemple de fonction qui soit bijective de $[0; 1]$ dans $[-2; 3]$.
2. Donner un exemple de fonction qui soit bijective de $[1; +\infty[$ dans $[-2; +\infty[$.
3. Donner un exemple de fonction qui soit bijective de \mathbb{R}^+ dans $[0, 2[$.

Exercice 4 *Théorème de la bijection*

Démontrer que l'équation $x^3 + 3x - 5 = 0$ admet une solution et une seule dans \mathbb{R} . Donner une méthode pour trouver une valeur approchée à 10^{-2} de cette solution.

Exercice 5 *Fonctions réciproques*

Les questions suivantes sont indépendantes.

1. On considère la fonction $f(x) = \frac{x}{1 + x}$.
 - (a) Montrer que f est une bijection de $] - 1, +\infty[$ dans un ensemble que l'on déterminera.
 - (b) Déterminer la fonction réciproque de la fonction f .
2. Vérifier que les fonctions $g(x) = \frac{x + 3}{x - 2}$ et $h(x) = \frac{2x + 3}{x - 1}$ sont réciproques l'une de l'autre.

Exercice 6

1. Montrer que la fonction définie pour tout $x \in \mathbb{R}$ par

$$f(x) = \frac{e^x}{e^x + 1}$$

est une bijection de \mathbb{R} dans $]0; 1[$.

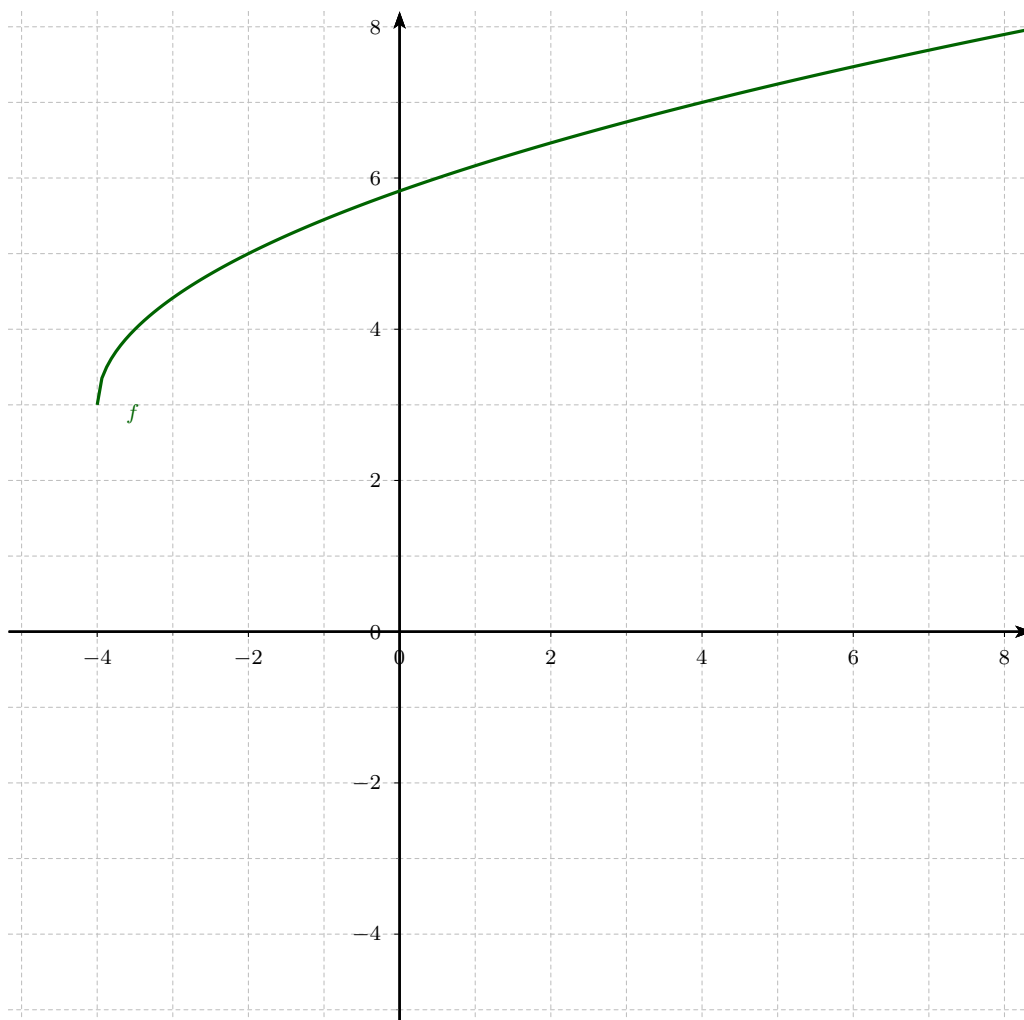
2. Déterminer sa fonction réciproque.
3. Montrer que l'équation $f(x) = x$ admet une solution unique.

Exercice 7

On considère la fonction :

$$f : [-4, +\infty[\longrightarrow E \\ x \longmapsto \sqrt{2x + 8} + 3$$

1. Montrer que f est une bijection de $[-4, +\infty[$ dans un ensemble E que l'on déterminera.
2. Déterminer la fonction réciproque de f .
3. Sur le graphique ci-dessous nous avons tracé la courbe représentative de f . Tracer la courbe de la réciproque de f .



Exercice 8 *arccos, arcsin, arctan*

Calculer :

1. $\arccos(-0.5)$

2. $\arcsin(-1)$

3. $\arccos\left(\frac{1}{2}\right)$

4. $\arctan(-1)$

5. $\arctan(\sqrt{3})$

6. $\arccos\left(\cos\left(\frac{3\pi}{4}\right)\right)$

7. $\arccos\left(\cos\left(\frac{7\pi}{6}\right)\right)$

8. $\arccos\left(\cos\left(\frac{31\pi}{4}\right)\right)$

9. $\arcsin\left(\sin\left(\frac{\pi}{3}\right)\right)$

10. $\arcsin\left(\sin\left(-\frac{4\pi}{3}\right)\right)$

11. $\arcsin\left(\sin\left(\frac{17\pi}{6}\right)\right)$

Exercice 9

Calculer :

1. $\arccos\left(\sin\left(\frac{3\pi}{2}\right)\right)$

2. $\arcsin\left(\cos\left(\frac{5\pi}{3}\right)\right)$

3. $\arccos\left(\sin\left(-\frac{\pi}{4}\right)\right)$

4. $\arcsin\left(\cos\left(\frac{\pi}{5}\right)\right)$

5. $\arctan\left(\tan\left(\frac{29\pi}{3}\right)\right)$

6. $\arctan\left(\tan\left(\frac{4\pi}{3}\right)\right)$

7. $\lim_{t \rightarrow +\infty} \arctan(t)$

8. $\lim_{t \rightarrow -\infty} \arctan(t)$

9. $\lim_{t \rightarrow +\infty} \arccos(t)$

Exercice 101. Soit $x \in [-1, 1]$, simplifier les expressions :

(a) $\sin(\arcsin(x))$,

(b) $\cos(\arccos(x))$,

(c) $\cos(\arcsin(x))$,

(d) $\sin(\arccos(x))$.

2. Montrer que, $\forall x \in [-1, 1]$,

$$\arccos(x) + \arcsin(x) = \frac{\pi}{2}.$$

Compléments**Exercice 11** Soit $f(x) = \arccos(\cos(x))$.

- Déterminer l'ensemble de définition de f .
- Déterminer la période de f .
- Déterminer la parité de f .
- Tracer la courbe représentative de f .

Exercice 12

On considère la fonction

$$f :]2, +\infty[\rightarrow \mathbb{R} \\ x \mapsto \frac{x+1}{x-2}$$

- Montrer que f est une bijection de E_1 sur F_1 , avec E_1 et F_1 deux ensembles à déterminer.
- Soit

$$f^{-1} : E_2 \rightarrow F_2$$

- Expliquer pourquoi f admet une application réciproque f^{-1} .
 - Déterminer les ensembles de départ E_2 et d'arrivée et F_2 de f^{-1} .
 - Déterminer l'application réciproque de f .
- Déterminer g tel que $g \circ f(x) = \ln(x)$

Exercice 13

Soit la fonction f définie par :

$$\begin{aligned} f :] \frac{2}{5}; +\infty[&\longrightarrow E \\ x &\longmapsto \ln \left(\frac{1}{5x - 2} \right). \end{aligned}$$

1. Dresser le tableau de variation de f sur $] \frac{2}{5}; +\infty[$.
2. Déterminer l'ensemble E pour que f soit bijective de $] \frac{2}{5}; +\infty[$ dans E .
3. Déterminer f^{-1} , la fonction réciproque de f .
4. Déterminer l'ensemble F pour que f^{-1} soit bijective de \mathbb{R} dans F .

Exercice 14

1. Donner un exemple de fonction bijective de $[2, +\infty[$ dans $] -\infty, 3]$.
2. Donner un exemple de fonction non bijective définie sur \mathbb{R} .
3. Donner un exemple de fonction bijective telle que $f(x) = f^{-1}(x)$.

Chapitre 2

Systemes linéaires et matrices

Exercice 1 Méthode de Gauss

Résoudre par la méthode de Gauss :

$$a) \begin{cases} 2x - y = 3 \\ x + y = -1 \end{cases} \quad b) \begin{cases} 2x + 5y = -9 \\ x + 7y = -15 \end{cases} \quad c) \begin{cases} 2x + y = 3 \\ -4x - 2y = 5 \end{cases} \quad d) \begin{cases} 4x + 2y = -6 \\ 2x + y = -3 \end{cases}$$

Exercice 2

Résoudre par la méthode de Gauss :

$$a) \begin{cases} 2\sqrt{x} + 3\sqrt{y} = 5 \\ 3\sqrt{x} + 5\sqrt{y} = 7 \end{cases} \quad b) \begin{cases} \frac{3}{y-1} - \frac{1}{x+2} = \frac{3}{4} \\ \frac{5}{y-1} + \frac{3}{x+2} = \frac{29}{12} \end{cases} \quad c) \begin{cases} \ln(x^3y) = 2 \\ \ln\left(\frac{x}{y^2}\right) = 3 \end{cases}$$

Exercice 3

Résoudre par la méthode de Gauss :

$$a) \begin{cases} x + 2y + z = 0 \\ x - 2y + 2z = 11 \\ -x + 6y - 5z = -28 \end{cases} \quad b) \begin{cases} 2x + 7y - 3z = 8 \\ -3x + y + z = -4 \\ x - 8y + 2z = 4 \end{cases} \quad c) \begin{cases} 2x - y + 3z = 3 \\ x + 3y - z = 5 \\ -x + 2y + 2z = 0 \end{cases}$$

Exercice 4 Écriture matricielle d'un système

On considère le système suivant

$$(S) \quad \begin{cases} x - y + z = 1 \\ -4x + 3y - z = 2 \\ 2x - y + z = 2 \end{cases}$$

1. Écrire le système (S) sous la forme $AX = B$, avec $A \in \mathcal{M}_{3,3}(\mathbb{R})$, $X \in \mathcal{M}_{3,1}(\mathbb{R})$ et $B \in \mathcal{M}_{3,1}(\mathbb{R})$.
2. Déterminer a , b et c pour que la matrice $M = \begin{pmatrix} -1 & 0 & a \\ b & \frac{1}{2} & c \\ 1 & \frac{1}{2} & \frac{1}{2} \end{pmatrix}$ soit la matrice inverse de A .
3. Résoudre le système (S) matriciellement, en utilisant la matrice M .

Exercice 5 *Extrait de DS 2017*

$$(S) \begin{cases} \sqrt{3}x - \sqrt{3}y & = 6 \\ x + y - 2z & = 0 \\ \sqrt{2}x + \sqrt{2}y + \sqrt{2}z & = 12 \end{cases}$$

- Ecrire le système (S) sous la forme $AX = B$ avec $A \in \mathcal{M}_{3,3}(\mathbb{R})$, $X \in \mathcal{M}_{3,1}(\mathbb{R})$ et $B \in \mathcal{M}_{3,1}(\mathbb{R})$.
- (a) Donner l'expression de tA , la transposée de A .
(b) Calculer tAA puis en déduire que $A^{-1} = \frac{1}{6} \begin{pmatrix} \sqrt{3} & 1 & \sqrt{2} \\ -\sqrt{3} & 1 & \sqrt{2} \\ 0 & -2 & \sqrt{2} \end{pmatrix}$.
- Résoudre le système (S) par la méthode de votre choix.

Exercice 6 *Déterminants*

Calculer le déterminant puis dire si les matrices suivantes sont inversibles :

1. $A = \begin{pmatrix} 2 & 1 \\ -3 & 4 \end{pmatrix}$

4. $D = \begin{pmatrix} 2 & 4 & -4 \\ -3 & 0 & 4 \\ 1 & -2 & 5 \end{pmatrix}$

6. $F = \begin{pmatrix} 2 & 0 & 4 & -4 \\ -3 & 0 & 0 & 4 \\ 2 & 2 & 5 & -6 \\ 1 & 0 & -2 & 5 \end{pmatrix}$

2. $B = \begin{pmatrix} 3 & -1 \\ -6 & 2 \end{pmatrix}$

5. $E = \begin{pmatrix} 1 & 3 & -5 \\ -2 & -1 & 4 \\ 6 & 0 & -5 \end{pmatrix}$

7. $G = \begin{pmatrix} 1 & 2 & 0 & 4 \\ -1 & 1 & 3 & -1 \\ 2 & 0 & 1 & 2 \\ 0 & -1 & 4 & 1 \end{pmatrix}$

3. $C = \begin{pmatrix} 2 & 1 & 0 \\ -3 & 4 & 0 \\ 0 & 1 & 5 \end{pmatrix}$

Exercice 7 *Résolution de système avec la matrice inverse*

Soit la matrice

$$A = \begin{pmatrix} a & 2 & 3 \\ -1 & 2 & -1 \\ -3 & 2 & 1 \end{pmatrix}$$

- Déterminer la valeur de a pour que la matrice ne soit pas inversible.
- On pose $a = -4$. Déterminer A^{-1} .
- Résoudre le système :

$$\begin{cases} -4x + 2y + 3z = 8 \\ -x + 2y - z = 4 \\ -3x + 2y + z = -4 \end{cases}$$

Exercice 8 *Matrice inverse*

Déterminer les matrices inverses des matrices suivantes

1. $A_1 = \begin{pmatrix} 2 & 1 \\ -3 & 4 \end{pmatrix}$

3. $B = \begin{pmatrix} 1 & -1 & 0 \\ -3 & 4 & 0 \\ 0 & 1 & 2 \end{pmatrix}$

5. $D = \begin{pmatrix} -1 & 2 & 4 \\ 3 & -5 & -10 \\ -5 & 8 & 17 \end{pmatrix}$

2. $A_2 = \begin{pmatrix} 21 & -3 \\ 12 & 7 \end{pmatrix}$

4. $C = \begin{pmatrix} 2 & 3 & 0 \\ -4 & 4 & 3 \\ -2 & 0 & -2 \end{pmatrix}$

Exercice 9

1. Pour $a \in \mathbb{R}$, on considère le système d'inconnues x et y :

$$\begin{cases} ax + y = 2 \\ x + ay = 1 \end{cases}$$

(a) Donner toutes les valeurs de a pour lesquelles ce système admet une solution unique.

(b) Résoudre alors ce système en fonction de a .

2. Résoudre par la méthode de Gauss le système suivant :

$$\begin{cases} x + 2y + z + t = 7 \\ 2x + 3y + 3z + 2t = 14 \\ -2x - y + 2t = 2 \\ -x - z + t = -1 \end{cases}$$

Compléments

Exercice 10

On considère les matrices suivantes :

$$A = \begin{pmatrix} 17 & -2 \\ 3 & 8 \end{pmatrix} \quad B = \begin{pmatrix} 2 & 3 & 1 \\ 2 & 5 & 1 \\ 0 & -1 & 1 \end{pmatrix} \quad C = \begin{pmatrix} 2 & 0 & 3 & 1 \\ 2 & 0 & 5 & 1 \\ -4 & 3 & 1 & 13 \\ 0 & 0 & -1 & 1 \end{pmatrix}$$

1. Déterminer les déterminants de A , B et C

2. Le système suivant admet-t-il une unique solution ? (on ne demande pas de le résoudre)

$$(S) \quad \begin{cases} 17x - 2y = 1 \\ 3x + 8y = 2 \end{cases}$$

3. La matrice B est-elle inversible ? Si oui, déterminer B^{-1} .

Exercice 11 Les questions suivantes sont indépendantes :

1. La matrice $A = \begin{pmatrix} 1 & 2 \\ -3 & -3 \end{pmatrix}$ et la matrice $B = \begin{pmatrix} -1 & 2 \\ 1 & -1 \end{pmatrix}$ sont-elles l'inverse l'une de l'autre ?

2. Soit la matrice $C = \begin{pmatrix} 2 & 0 & -3 \\ -3 & 4 & 5 \end{pmatrix}$. Existe-t-il une matrice D telle que $C \times D$ et $C + D$ existent ?

3. Soit la matrice $E = \begin{pmatrix} 0 & 1 & 1 \\ 2 & 0 & 5 \\ 1 & 2 & 4 \end{pmatrix}$

(a) Déterminer a , b et c pour que $F = \begin{pmatrix} a & -2 & 5 \\ -3 & b & 2 \\ 4 & c & -2 \end{pmatrix}$ soit l'inverse de E .

(b) En déduire les solutions du système :
$$\begin{cases} y + z = 1 \\ 2x + 5z = 1 \\ x + 2y + 4z = 6 \end{cases}$$

Chapitre 3

Polynômes

Exercice 1 *Degré de polynômes*

Déterminer le degré des polynômes suivants :

1. $P_1(X) = (X - 1)^2(X + 1)$
2. $P_2(X) = (X - 1)^2(X^2 + 1)^2$
3. $P_3(X) = X(X^3 + 1)^2(X^2 + 2X + 1)$
4. $P_4(X) = X^2(X^2 + 2) + X^4 + 2X + 1$
5. $P_5(X) = X(X^3 + 1)^2 - X^7 + 2X + 1$
6. $P_6(X) = P_1(P_2(X))$
7. $P_7(X) = P_1(X)P_2(X)$
8. $P_8(X) = P_1(X) + P_2(X)$

Exercice 2 *Factorisation dans \mathbb{R}*

Factoriser dans \mathbb{R} les polynômes suivants :

1. $P_1(X) = X^2 - 2X - 3$
2. $P_2(X) = X^3 - 7X^2 + 12X$
3. $P_3(X) = X^3 - 3X^2 + 3X - 1$
4. $P_4(X) = X^3 + 2X^2 - 4X - 5$
5. $P_5(X) = X^4 - 64$
6. $P_6(X) = X^4 + X^3 - 3X^2 - 4X - 4$
7. $P_7(X) = (X - i)(X + i)(X - 1 + i)(X - 1 - i)$

Exercice 3 *Factorisation dans \mathbb{C}*

Soit $P(X) = X^3 + X^2 - X + 1$.

1. Montrer que $1 + 2i$ est racine de P .
2. Factoriser P dans $\mathbb{R}[X]$ et dans $\mathbb{C}[X]$.

Exercice 4 *Factorisation dans \mathbb{C}*

Soit $P(X) = X^3 - (4 - 3i)X^2 - 6iX + (7 - 9i)$.

1. Montrer que P admet une racine réelle r si et seulement si r est solution de $r^3 - 4r^2 + 7 = 0$ et de $3r^2 - 6r - 9 = 0$.
2. P admet-il une racine réelle ?

Exercice 5 *Factorisation dans \mathbb{C}*

Soit $P(X) = X^3 - (2 - 2i)X^2 + (2 - 3i)X + (5 - 5i)$.

1. Trouver une racine réelle de P .
2. Les racines complexes de P sont-elles conjuguées ? Pourquoi ?
3. Factoriser P dans $\mathbb{C}[X]$.

Exercice 6 Factorisation dans \mathbb{C}

Posons $P(X) = X^3 + (-3 - 4i)X^2 + (-3 + 8i)X + 5$.

1. Vérifier que i est racine de P . En déduire un polynôme P_1 tel que $P(X) = (X - i)P_1(X)$.
2. Trouver les racines complexes z_1 et z_2 de P_1 et en déduire la factorisation de P dans $\mathbb{C}[X]$.
3. Soit Q un polynôme de degré 4 à coefficients réels qui admet z_1 et z_2 comme racines. Ecrire la factorisation de Q dans $\mathbb{C}[X]$ et dans $\mathbb{R}[X]$.

Exercice 7 Racines multiples

1. Montrer que le polynôme $P(X) = X^3 + X^2 - 16X + 20$ admet le nombre 2 comme racine de multiplicité 2. En déduire la factorisation de P dans $\mathbb{R}[X]$.
2. Soit $P(X) = X^4 - 5X^3 + 9X^2 - 7X + 2$. On remarque que $P(1) = 0$: déterminer la multiplicité de 1. En déduire la factorisation de P dans $\mathbb{R}[X]$.
3. Soit $a \in \mathbb{R}$. Déterminer a pour que le polynôme $P(X) = 2X^2 - X + a - 2$ admettent une racine de multiplicité 2. Factoriser P dans $\mathbb{R}[X]$.

Exercice 8

1. Donner un polynôme P_1 à coefficients réels qui admet $1 + i$ et 2 comme racines.
2. Donner un polynôme P_2 de degré 4 qui admet 2 comme racine double et -1 comme racine simple.
3. Donner un polynôme P_3 vérifiant ces 4 conditions suivantes :
 - -2 est racine simple de P
 - $1+i$ est racine de multiplicité 2 de P
 - le reste de la division euclidienne de P par $X^2 + 1$ est nul
 - P est à coefficient réels

Exercice 9 Factorisation dans \mathbb{R} et \mathbb{C}

On considère le polynôme $P(X) = X^3 + X^2 - 4X + 6$.

1. Montrer que $1 + i$ est une racine de P .
2. Le polynôme P admet-elle une autre racine complexe? Si oui, que vaut-elle?
3. Effectuer la division euclidienne de P par $X + 3$
4. (a) Les racines de P dans \mathbb{C} , dans \mathbb{R} .
(b) La factorisation de P dans $\mathbb{C}[X]$, dans $\mathbb{R}[X]$.

Exercice 10 Divisions Euclidiennes

Effectuer la division euclidienne de :

1. $P(X) = X^4 - X^3 + 2X^2 + X - 1$ par $D(X) = X^2 + X - 1$.
2. $P(X) = X^5 + X + 1$ par $D(X) = X^3 - X^2 + 1$.
3. $P(X) = X^3 + 3X - 2i$ par $D(X) = X - i$.

Exercice 11 Racines multiples - Division Euclidienne

Soit le polynôme $P(X) = X^6 - 5X^4 + 8X^3 - 9X^2 + aX + b$, où a et b sont deux réels.

1. Déterminer a et b pour que 1 soit racine de multiplicité $k \geq 2$ du polynôme P . Désormais, a et b auront ces valeurs.
2. Quel est alors l'ordre de multiplicité k de 1 comme racine de P ?
3. Vérifier ce résultat en effectuant la division euclidienne de P par $(X - 1)^k$ pour les valeurs a et b trouvées. Préciser la valeur du quotient Q .
4. Vérifier que i est racine de Q .
5. Factoriser P dans $\mathbb{C}[X]$.

Exercice 12 *Extrait de DS 2019*

On souhaite étudier la propriété suivante :

Le produit de 4 nombres entiers qui se suivent auquel on ajoute 1 est toujours le carré d'un nombre entier (★)

Exemple : $4 \times 5 \times 6 \times 7 + 1 = 841 = 29^2$

1. Soient N un nombre entier et $P(N)$ le résultat du produit de N par les 3 entiers suivants auquel on ajoute 1. Montrer que

$$P(N) = N^4 + 6N^3 + 11N^2 + 6N + 1$$

2. Poser la division euclidienne de P par $N^2 + 3N + 1$.
3. Dire si la propriété (★) est vraie ou fausse puis donner la valeur de $\sqrt{15 \times 16 \times 17 \times 18 + 1}$.

Exercice 13 *Interpolation polynômiale*

1. Soient les matrices A et B :

$$A = \begin{pmatrix} 1 & 1 & 1 \\ 4 & 2 & 1 \\ 9 & 3 & 1 \end{pmatrix} \quad \text{et} \quad B = \begin{pmatrix} \alpha & -1 & \alpha \\ \beta & 4 & -1.5 \\ 3 & -3 & 1 \end{pmatrix}$$

Déterminer α et β pour que B soit l'inverse de A .

2. Résoudre le système suivant :

$$\begin{cases} a + b + c = 2 \\ 4a + 2b + c = 6 \\ 9a + 3b + c = 12 \end{cases}$$

3. Déterminer le polynôme P sachant que : P est de degré 2, $P(1) = 2$, $P(2) = 6$ et $P(3) = 12$.

Exercice 14 *D.E.S.*

Décomposer en éléments simples dans $\mathbb{R}[X]$ les fractions rationnelles :

$$\begin{aligned} 1. F_1(X) &= \frac{4}{(X-5)(X+3)} & 3. F_3(X) &= \frac{X^3}{X^2+2X-15} \\ 2. F_2(X) &= \frac{X^2+1}{X(X-2)(X+4)} \end{aligned}$$

Exercice 15 *D.E.S.*

Décomposer en éléments simples dans $\mathbb{R}[X]$ les fractions rationnelles :

$$\begin{aligned} 1. F_1(X) &= \frac{X^2}{(X-1)^2(X+4)} & 3. F_3(X) &= \frac{1}{X^2(X+2)^2} \\ 2. F_2(X) &= \frac{X^2+1}{X^4-2X^3} \end{aligned}$$

Exercice 16 *D.E.S.*

Décomposer en en éléments simples dans $\mathbb{R}[X]$ les fractions rationnelles :

$$\begin{aligned} 1. F_1(X) &= \frac{3X+2}{(X^2+1)(X-2)} & 3. F_3(X) &= \frac{X^4}{X^3-2X^2+X-2} \\ 2. F_2(X) &= \frac{X^3+2X}{(X^2+X+1)(X^2-7X+8)} \end{aligned}$$

Exercice 17 *Extrait de DS 2018*

1. Donnez la **forme** de la décomposition en élément simples (DES) dans $\mathbb{R}[X]$ des fractions rationnelles suivantes :

$$(a) F_1(X) = \frac{X^3}{(1+X)(X-2)} \quad (b) F_2(X) = \frac{2}{X^3+X} \quad (c) F_3(X) = \frac{2X+1}{X^3(X^2+1)}$$

2. Calculez les constantes dans la DES de F_1 et F_2 .

Compléments

Exercice 18 Soit la fonction $F(X) = \frac{X^4 + 4X^3 + 5X^2 + 3X - 1}{X^3 + 2X^2 + X}$.

1. Déterminer les polynômes $E(X)$ et $D(X)$ tels que $F(X) = E(X) + \frac{D(X)}{X^3 + 2X^2 + X}$ avec $\deg(D) < 3$.
2. Factoriser le polynôme $Q(X) = X^3 + 2X^2 + X$.
3. Donner la forme de la D.E.S. de F .
4. Donner la décomposition en éléments simples de F .

Exercice 19 Répondre par Vrai ou Faux en justifiant.

1. Il n'existe pas de polynôme de degré 5 à coefficients réels qui admette 3 comme racine triple et i comme racine double.
2. Le reste de la division euclidienne de $P(X) = X^6 - 3X^2 - 3$ par $X - 1$ est nul.
3. Soit P un polynôme. Si $P'(3) = 0$ alors 3 est racine de P de multiplicité au moins 2.
4. Il existe un polynôme P tel que $P(X^3 + 1) = X^3P(X)$.
5. La forme de la D.E.S. de $F(X) = \frac{2X - 7}{(X + 1)(X^2 + 3X + 1)}$ est $F(X) = \frac{a}{X + 1} + \frac{b}{X^2 + 3X + 1}$

Exercice 20 Soit $P(X) = X^4 + 2X^3 + 2X^2 + 2X + 1$.

1. Montrez que -1 est racine double de P .
2. Effectuez la division euclidienne de P par $X - i$.
3. Sans poser la division euclidienne de P par $X + i$, justifiez pourquoi le reste est forcément nul.
4. Déterminez la factorisation de P dans $\mathbb{R}[X]$ et dans $\mathbb{C}[X]$.

Exercice 21 Considérons un polynôme P défini par

$$P(X) = 2X^5 - 3X^4 - 8X^3 + 5X^2 + \alpha X + \beta$$

1. Déterminer les valeurs de α et β pour que 2 et -1 soient racines de P .
Pour les questions suivantes on remplacera α et β par les valeurs obtenues à la question 1.
2. Montrer que les racines 2 et -1 sont de multiplicité 2.
3. Sachant que $(X - 2)^2(X + 1)^2 = X^4 - 2X^3 - 3X^2 + 4X + 4$, poser la division euclidienne de P par $(X - 2)^2(X + 1)^2$.
4. En déduire la forme factorisée de P dans $\mathbb{R}[X]$.

Chapitre 4

Calcul intégral - Partie 1

Exercice 1 *Calcul de surface*

1. On considère les 3 fonctions suivantes :

$$f_1(t) = \begin{cases} 0 & \text{si } t \in]-\infty; 0[\\ 2 & \text{si } t \in [0, 3[\\ 0 & \text{si } t \in [3, +\infty[\end{cases} \quad f_2(t) = \begin{cases} 0 & \text{si } t \in]-\infty; -1[\\ 2 & \text{si } t \in [-1, 2[\\ -2 & \text{si } t \in [2, 3[\\ 0 & \text{si } t \in [3, +\infty[\end{cases} \quad f_3(t) = \begin{cases} 0 & \text{si } t \in]-\infty; -1[\\ t + 1 & \text{si } t \in [-1, 0[\\ -t + 1 & \text{si } t \in [0, 1[\\ 0 & \text{si } t \in [1, +\infty[\end{cases}$$

$$\text{Calculer } I_1 = \int_{-5}^5 f_1(t)dt, I_2 = \int_{-5}^5 f_2(t)dt \text{ et } I_3 = \int_{-5}^5 f_3(t)dt,$$

2. Calculer $\int_{-1}^5 |t - 3| dt$

Exercice 2 *Propriétés graphiques*

Dire si les égalités sont vraies ou fausses :

1. $\int_{-2\pi}^{\pi} |\sin(t)| dt = 3 \int_0^{\pi} \sin(t) dt,$

2. $\int_{-\pi}^{\pi} \sin^5(3t) dt = 0$

3. $\int_0^{\pi} 2 + \sin(t) dt = 2 + \int_0^{\pi} \sin(t) dt.$

4. $\int_{-\pi\sqrt{3}}^{\pi\sqrt{3}} 14t^7 + 23t^5 - t^3 - \frac{4t}{7} dt$

5. $\int_{-\frac{1}{2}}^{\frac{1}{2}} t^3 - 3t + 1 dt = 1$

Exercice 3 *Calcul de surface*

Tracer les courbes d'équations $y = 2x$, $y = \frac{x}{4}$ et $y = \frac{2}{x^2}$ sur le quadrant $x > 0$, $y > 0$. Calculer l'aire de la surface centrale délimitée par ces 3 courbes.

Exercice 4 *Calculs de primitives*

Calculer les intégrales suivantes :

1. $\int_{-1}^2 \frac{2t^3 + 5t^2 -}{4t + 1} dt$

4. $\int_1^2 \frac{1}{t^3} dt$

7. $\int_0^1 e^{\frac{1}{3}t} dt$

11. $\int_1^2 \frac{3t^2 + 2t + 1}{t^3 + t^2 + t + 2} dt$

2. $\int_{-2}^2 t^5 + 3t^2 + 4t dt$

5. $\int_1^2 \frac{t}{\sqrt{t^2 + 3}} dt$

8. $\int_0^5 e^{-\frac{t}{5}} dt$

12. $\int_0^{\pi} \sin(5t) dt$

3. $\int_1^2 t(t^2 + 1)^2 dt$

6. $\int_{-1}^1 e^{7t} dt$

9. $\int_0^1 \frac{e^{4t} - e^{-4t}}{2} dt$

13. $\int_0^{\frac{\pi}{2}} \cos(3t) dt$

10. $\int_1^2 \frac{3}{5t - 1} dt$

Exercice 5 *Calculs de primitives*

Calculer les intégrales suivantes :

1. $\int_0^{\sqrt{\pi}} t \cos(t^2) dt$

2. $\int_0^1 t^2 e^{t^3} dt$

3. $\int_0^{\frac{\pi}{4}} \frac{\sin(t)}{\cos^3(t)} dt$

4. $\int_0^{\frac{\pi}{4}} \sin(3t) \cos^4(3t) dt$

5. $\int_0^{\pi} \frac{\sin(t)}{e^{\cos t}} dt$

6. $\int_0^1 2^t dt$

7. $\int_0^1 \frac{\frac{1}{2}}{4t^2 + 1} dt$

8. $\int_{-3}^2 |t^2 - 4| dt$

9. $\int_0^{2\pi} \frac{\sin(x) \ln(t)}{e^{7 \cos t}} dx$

Exercice 6 *Attention à la variable !*

Calculer les intégrales suivantes :

1. $I_1 = \int_1^e \frac{t}{x} dx$

2. $I_2 = \int_1^e \frac{t}{x} dt$

3. $I_3 = \int_0^1 e^{\frac{t}{x}} dt$

4. $I_4 = \int_{-\pi}^{\pi} \sin(2t) dx$

5. $I_5 = \int_0^{\pi} \sin(2t) + x dt$

Exercice 7 *D.E.S*On souhaite calculer $I = \int_0^2 \frac{t^2 + 1}{(t + 1)(t^2 + 4)} dt$

1. Déterminer une primitive de $f(t) = \frac{1}{t^2 + 4}$.

2. Déterminer une primitive de $g(t) = \frac{t - 1}{t^2 + 4}$.

3. Montrer que

$$\frac{t^2 + 1}{(t + 1)(t^2 + 4)} = \frac{3(t - 1)}{5(t^2 + 4)} + \frac{2}{5(t + 1)}.$$

4. Calculer I .**Exercice 8** *D.E.S*

Calculer les intégrales suivantes :

1. $I = \int_0^1 \frac{t^2}{t + 1} dt$

2. $J = \int_0^1 \frac{t^2 + 1}{(t + 1)(t^2 - 4)} dt$

3. $K = \int_4^5 \frac{t^3 + 2}{t^2 - 5t + 6} dt$

4. $L = \int_0^1 \frac{3t + 1}{(t + 1)^2} dt$

5. $M = \int_0^1 \frac{3t + 1}{(t + 2)(t^2 + 1)} dt$

Exercice 9 *Linéarisation*

Calculer les intégrales suivantes :

1. $I = \int_0^{\frac{\pi}{2}} \sin(2t) \cos(3t) dt$

2. $J = \int_0^{\frac{\pi}{2}} \cos^3(t) dt$

3. $K = \int_0^{\frac{\pi}{3}} \cos(2t) \cos(5t) dt$

Exercice 10 I.P.P.

A l'aide d'une (ou plusieurs) intégration(s) par parties, calculer :

1. $I = \int_0^1 (1+t)e^{2t} dt$

4. $L = \int_1^e \ln(t) dt$

2. $J = \int_0^\pi t^2 \cos\left(\frac{t}{2}\right) dt$

5. $M = \int_0^1 2t \arctan(t) dt$

3. $K = \int_0^1 (1+4t) \ln(2t+1) dt$

6. $N = \int_0^\pi e^t \sin(t) dt$

Exercice 11 I.P.P.

1. Calculer une primitive de $f(t) = \frac{2t}{(t^2-1)^2}$.

2. Calculer $I = \int_2^3 \frac{1}{t(t^2-1)} dt$.

3. Calculer $J = \int_2^3 \frac{2t \ln t}{(t^2-1)^2} dt$.

Exercice 12 Changement de variable

Calculer les intégrales suivantes :

1. $I_0 = \int_{-\frac{1}{2}}^{\frac{1}{2}} \frac{1}{4t^2+4t+5} dt$ en posant $x = t + \frac{1}{2}$

2. $I_1 = \int_0^{\frac{\pi}{2}} \cos^2(t) \sin^3(t) dt$ en posant $u = \cos(t)$

3. $I_2 = \int_0^{\frac{\pi}{2}} \cos^3(t) \sin^2(t) dt$

4. $I_3 = \int_0^1 \sqrt{1-t^2} dt$ en posant $t = \cos(x)$

5. $I_4 = \int_0^1 \frac{1}{1+e^u} du$ en posant $t = e^u$

Exercice 13 Changement de variable

On souhaite calculer $I = \int_1^2 \frac{1}{t} \sqrt{\frac{t-1}{t+1}} dt$

1. On pose $u = \sqrt{\frac{t-1}{t+1}}$. Exprimer t en fonction de u .

2. En déduire une relation entre dt et du .

3. Donner l'expression de l'intégrale I en fonction de la variable u .

4. Calculer I .

Compléments

Exercice 14

On pose $I = \int_0^{\pi/2} \frac{\cos(t)}{1+2\sin(t)} dt$ et $J = \int_0^{\pi/2} \frac{\sin(2t)}{1+2\sin(t)} dt$.

1. Calculer I .

2. Calculer $I+J$.

3. En déduire J .

Exercice 15 Calculer les intégrales suivantes :

1. $I = \int_1^2 \frac{e^{1/x}}{x^2} dx$

2. $J = \int_{-\pi/2}^{\pi/2} \sin^4(x) \cos(x) dx$

3. $L = \int_{-\pi/2}^{\pi/2} \cos^2(x) dx$

4. $M = \int_0^2 |t^2 - 3t + 2| dt$

5. $N = \int_0^\pi \frac{\sin(x)}{1 + \cos^2(x)} dx$

6. $P = \int_{-1}^1 \sqrt{1 - x^2} dx$
(on pourra effectuer le changement de variable $x = \sin(u)$)

Exercice 16 Soit $f(x) = \frac{x - 1}{(x + 1)(x^2 + 2x + 2)}$

1. Faire la D.E.S. de $f(x)$
2. Montrer qu'une primitive de $\frac{1}{x^2 + 2x + 2}$ est $\arctan(x + 1)$.
3. En déduire une primitive $F(x)$ de $f(x)$.

Exercice 17

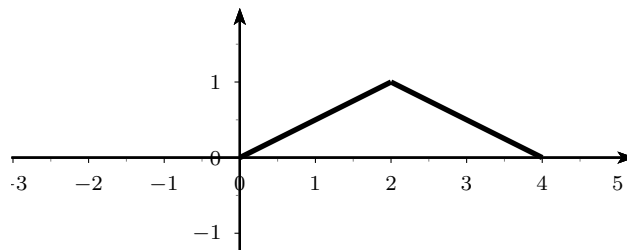
1. Montrer que $\frac{x^3}{1 + x^2} = x - \frac{x}{1 + x^2}$ puis déterminer une primitive de $\frac{x^3}{1 + x^2}$
2. En effectuant une intégration par parties, calculer $\int_{-1}^1 x^2 \arctan(x) dx$
3. Aurait-on pu prévoir le résultat précédent ?

Exercice 18

1. Montrer que $2t^2 + 17t + 36 = (2t + 9)(t + 4)$.
2. Montrer que $\int_1^8 \frac{t}{2t^2 + 17t + 36} dt = -4 \ln(12) - \frac{9}{2} \ln(11) + 13 \ln(5)$
3. Calculer $I = \int_1^2 \frac{x^5}{2x^6 + 17x^3 + 36} dx$ en posant le changement de variable $t = x^3$.

Exercice 19

Soit la fonction $s(t)$ définie sur $[0; 4]$ par :



1. Déterminer $\int_0^4 s(t) dt$
2. On note s_2 la fonction impaire définie sur $[-4; 4]$ telle que $s_2(t) = s(t)$ sur $[0; 4]$.
Déterminer $\int_{-4}^4 s_2(t) dt$
3. On note s_3 la fonction paire définie sur $[-4; 4]$ telle que $s_3(t) = s(t)$ sur $[0; 4]$.
Déterminer $\int_{-4}^4 s_3(t) dt$

Chapitre 5

Calcul intégral - Partie 2

Exercice 1 *Intégrales généralisées*

- (a) Soit $X > 1$. Calculer $\int_1^X \frac{1}{(2t+1)^2+1} dt$
(b) En déduire que $\int_1^{+\infty} \frac{1}{(2t+1)^2+1} dt$ est convergente.
- (a) Soit $X > 2$. Calculer $\int_2^X \frac{1}{(t+3)(t-1)} dt$
(b) En déduire que $\int_2^{+\infty} \frac{1}{(t+3)(t-1)} dt$ est convergente.
- (a) Soit $X > 2$. Calculer $\int_2^X \frac{4t^2-t+6}{(t^2+2)(t-1)} dt$
(b) En déduire que $\int_2^{+\infty} \frac{4t^2-t+6}{(t^2+2)(t-1)} dt$ est divergente.

Exercice 2 *Équivalence*

Dans chacun des cas suivants, dire si l'équivalent est vrai ou faux en justifiant vos réponses.

- $\sin(x) \underset{0}{\sim} x$
- $\cos(x) - 1 \underset{0}{\sim} x$
- $x^2 + x - 2 \underset{0}{\sim} x - 1$
- $e^x - 1 \underset{0}{\sim} x$
- $2 \cos(x) - 1 \underset{\pi/3}{\sim} 3x - \pi$

Exercice 3 *Équivalence*

Compléter les équivalences avec une fonction « simple » :

- $\frac{t^2+t-2}{t^5-3t+1} \underset{+\infty}{\sim}$
- $\sin\left(\frac{1}{t^2}\right) \underset{+\infty}{\sim}$
- $\ln\left(1+\frac{1}{t}\right) \underset{+\infty}{\sim}$
- $\frac{t^3+t}{t^5-3t^2} \underset{0}{\sim}$

Exercice 4 *Critères de convergence*

Pour chacune des intégrales suivantes dire si elle est convergente ou divergente :

- $\int_1^{+\infty} \frac{1}{t^2} dt$
- $\int_1^{+\infty} \frac{1}{t} dt$
- $\int_1^{+\infty} \frac{1}{t\sqrt{t}} dt$

$$4. \int_1^{+\infty} \frac{\sqrt{t}}{t^3+t} dt,$$

$$6. \int_1^{+\infty} \frac{1}{\sqrt{t}} \sin\left(\frac{1}{\sqrt{t}}\right) dt,$$

$$8. \int_1^{+\infty} t \sin\left(\frac{1}{t}\right) dt.$$

$$5. \int_1^{+\infty} \frac{1}{t} \sin\left(\frac{1}{t}\right) dt$$

$$7. \int_1^{+\infty} \ln\left(1 + \frac{1}{\sqrt{t}}\right) dt,$$

Exercice 5 *Un peu de logique*

Les affirmations suivantes sont fausses. Trouver dans chacun des cas un contre-exemple le prouvant.

$$1. \lim_{t \rightarrow +\infty} f(t) = 0 \Rightarrow \int_1^{+\infty} f(t) dt \text{ converge.}$$

2. Soit f et g deux fonctions telles que $0 \leq f(t) \leq g(t)$ pour tout $t \geq 1$. Alors :

$$\int_1^{+\infty} g(t) dt \text{ diverge} \Rightarrow \int_1^{+\infty} f(t) dt \text{ diverge.}$$

Exercice 6 *Calcul d'intégrales généralisées*

1. Justifier que $I = \int_1^{+\infty} \frac{1}{t(t^2+1)} dt$ est convergente et calculer sa valeur.

2. Justifier que $I = \int_0^{+\infty} \frac{t dt}{1+t^4}$ est convergente et calculer sa valeur.

Exercice 7 *Calcul d'intégrales généralisées*

Soit $a > 1$. On note :

$$I(a) = \int_1^a \frac{\arctan t}{t^2} dt.$$

Calculer $I(a)$ et étudier la convergence de $I = \int_1^{+\infty} \frac{\arctan t}{t^2} dt$. On donnera sa valeur, le cas échéant.

Exercice 8 *Comparaison*

1. (a) Montrer que $\forall t \in [1, \infty[$, $0 \leq \ln t \leq t$.

(b) Etudier la convergence de $I = \int_1^{+\infty} \frac{\ln t}{1+t^3} dt$.

2. (a) Montrer que $\forall t \in \mathbb{R}$, $e^t > t$.

(b) Etudier la convergence de $J = \int_0^{+\infty} \frac{e^{-t}}{1+t} dt$.

3. Etudier la convergence de $K = \int_1^{+\infty} \frac{\ln(t)}{t+1} dt$,

Compléments

Exercice 9

1. Déterminer la nature des intégrales généralisées suivantes :

$$(a) I = \int_1^{+\infty} \sin\left(\frac{1}{t^2+t+1}\right) dt \qquad (b) J = \int_1^{+\infty} \frac{\left(\frac{1}{t}+1\right)^2}{t+2} dt$$

2. On souhaite étudier la nature de l'intégrale : $K = \int_1^{+\infty} \frac{\ln(t^2+1)}{t^3} dt$

- (a) Montrer que, pour tout $t \geq 1$ on a : $0 \leq \ln(t^2+1) \leq t$
(b) En déduire la nature de K .

Exercice 10 Les questions suivantes sont indépendantes et peuvent être traitées séparément.

1. (a) Soit $X > 1$. Calculez $\int_1^X e^{-t} dt$.

(b) En déduire la nature* de $\int_1^{+\infty} e^{-t} |\cos(t)| dt$.

2. (a) Soit $X > e$. Calculez $\int_e^X \frac{1}{t \ln^2(t)} dt$ en posant le changement de variable $u = \ln(t)$.

(b) En déduire la nature* de $\int_e^{+\infty} \frac{1}{t \ln^2(t)} dt$.

3. Déterminer la nature* des intégrales suivantes :

$$(a) \int_1^{+\infty} \frac{t+1}{(t+3)(t+1)} dt, \qquad (b) \int_1^{+\infty} \frac{e^{-t^2}}{\sqrt{t}} dt, \qquad (c) \int_1^{+\infty} \sqrt{t} \sin\left(\frac{1}{t^2}\right) dt.$$

4. (a) Soit $X > 1$. Montrez que :

$$\int_1^X \frac{\ln(t)}{t^2} dt = \left[-\frac{\ln(t)}{t}\right]_1^X + \int_1^X \frac{1}{t^2} dt.$$

(b) En déduire la nature* de $\int_1^{+\infty} \frac{\ln(t)}{t^2} dt$.

Exercice 11 Les questions suivantes sont indépendantes.

1. Donner la nature de l'intégrale I (convergente ou divergente) :

$$I = \int_2^{+\infty} \frac{t^3 - 7t + 3}{t(t+1)(t^2-3)} dt$$

2. On souhaite étudier la nature de l'intégrale : $J = \int_1^{+\infty} \frac{\arctan(t)}{t^3} dt$.

(a) En étudiant les variations de la fonction $g(t) = \arctan(t)$,
montrer que $\forall t \geq 1$, on a $0 \leq \arctan(t) \leq \frac{\pi}{2}$.

(b) En déduire la nature de J .

Chapitre 6

Transformée de Laplace

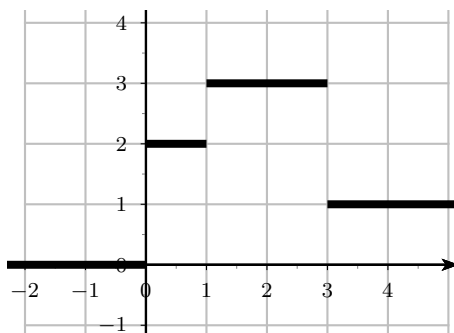
Exercice 1 *Fonction échelon*

On rappelle que la fonction *Echelon de Heaviside* est définie par : $\mathcal{U}(t) = \begin{cases} 1 & \text{si } t \geq 0 \\ 0 & \text{si } t < 0. \end{cases}$

1. Représenter la fonction *échelon retardé* : $t \mapsto \mathcal{U}(t - 2)$ et la fonction *échelon avancé* : $t \mapsto \mathcal{U}(t + 3)$.
2. Représenter les fonctions
 - (a) $f(t) = \mathcal{U}(t) - 2\mathcal{U}(t - 1) + \mathcal{U}(t - 2)$.
 - (b) $g(t) = \mathcal{U}(t - 1) + \mathcal{U}(t - 4)$.

Exercice 2 *Exprimer une fonction en utilisant la fonction échelon*

Voici la représentation graphique d'une fonction f définie sur \mathbb{R} :



1. Exprimer $f(t)$ en fonction de t en utilisant la fonction échelon unité.

Exercice 3 *Fonction échelon*

Écrire chaque fonction sans utiliser la fonction \mathcal{U} ; puis dessiner leur courbe représentative.

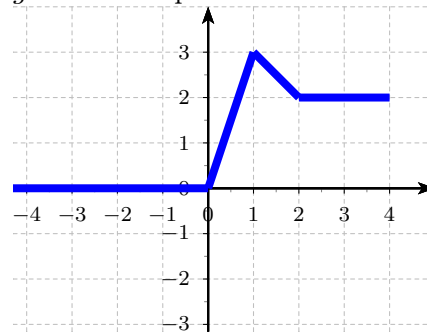
1. $f_1(t) = 3\mathcal{U}(t) + \mathcal{U}(t - 1) + 3\mathcal{U}(t - 2)$
2. $f_2(t) = 2\mathcal{U}(t - 1) - t\mathcal{U}(t - 2) + (t - 2)\mathcal{U}(t - 4)$
3. $f_3(t) = \sin(t)\mathcal{U}(t) - \sin(t)\mathcal{U}(t - \pi)$
4. $f_4(t) = \cos(2t)\mathcal{U}(t - \frac{\pi}{2}) - \cos(2t)\mathcal{U}(t - \pi)$
5. $f_5(t) = (t - 1)\mathcal{U}(t - 1) + 2\mathcal{U}(t - 2) - (2t - 1)\mathcal{U}(t - 3)$
6. $f_6(t) = t - t\mathcal{U}(t)$

Exercice 4 *Exprimer une fonction en utilisant la fonction échelon*

Définir chacune des fonctions suivantes par une seule égalité (et donc en utilisant la fonction $\mathcal{U}(t)$) :

$$1. f(t) = \begin{cases} 0 & \text{si } t \in]-\infty; 0[\\ t & \text{si } t \in [0, 1[\\ 1 & \text{si } t \in [1, 2[\\ -t + 4 & \text{si } t \in [2, 4[\\ 0 & \text{si } t \in [4, +\infty[\end{cases}$$

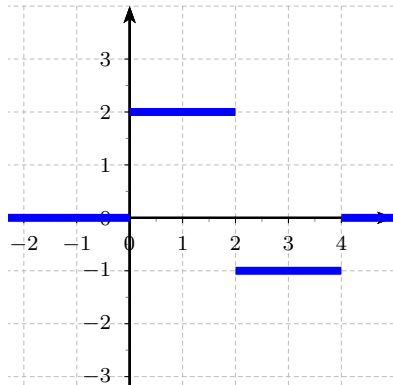
2. g est définie par



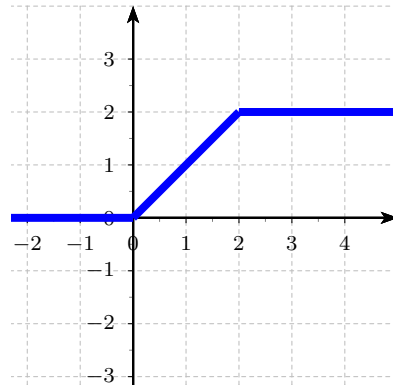
Exercice 5 *Calcul de transformées de Laplace*

En revenant à la définition, calculer les transformées de Laplace des fonctions suivantes :

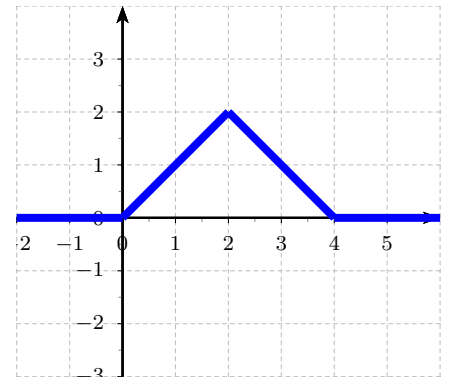
1.



2.



3.



Exercice 6 *Calcul de transformées de Laplace*

Calculer les transformées de Laplace de chacune des fonctions suivantes :

1. $f_1(t) = (3t^2 - 2t + 1)\mathcal{U}(t)$

2. $f_2(t) = (4t^4 + 3t^3 + 5t^2 + 2)\mathcal{U}(t)$

3. $f_3(t) = e^{-3t}\mathcal{U}(t)$

4. $f_4(t) = e^{-5t+2}\mathcal{U}(t)$

5. $f_5(t) = (e^{-3t} - e^{3t})\mathcal{U}(t)$

6. $f_6(t) = \sin(3t)\mathcal{U}(t)$

7. $f_7(t) = (\sin(3t) - 2\cos(3t))\mathcal{U}(t)$

8. $f_8(t) = \frac{e^{\omega t} - e^{-\omega t}}{2}\mathcal{U}(t)$

9. $f_9(t) = \cos(50\pi t + \frac{\pi}{6})\mathcal{U}(t)$

Exercice 7 *Calcul de transformées de Laplace - Retard*

Calculer les transformées de Laplace de chacune des fonctions suivantes :

1. $f_1(t) = t\mathcal{U}(t - 7)$

2. $f_2(t) = t^2\mathcal{U}(t - 2)$

3. $f_3(t) = e^{-t}\mathcal{U}(t - 3)$

4. $f_4(t) = (t^2 + 2t)\mathcal{U}(t - 4)$

5. $f_5(t) = \cos(t)\mathcal{U}(t - \pi)$

6. $f_6(t) = \cos(2t)\mathcal{U}\left(t - \frac{\pi}{3}\right)$

7. f_7 est définie par la courbe 2 de l'exercice 5.

Exercice 8 Calcul de transformées de Laplace

Calculer la transformée de Laplace des fonctions suivantes :

- $f_1(t) = (2t^2 - 3t)e^{-4t}\mathcal{U}(t)$
- $f_2(t) = e^{-t}\sin(3t)\mathcal{U}(t)$
- $f_3(t) = e^{3t}\cos(2t)\mathcal{U}(t)$
- $f_4(t) = e^{-t}(t+1)\mathcal{U}(t-2)$
- $f_5(t) = (t^3e^{-3t} + 4t^2e^{2t} + 7)\mathcal{U}(t-2)$

Exercice 9

Déterminer les transformées de Laplace des fonctions causales définies par :

- $f(t) = \begin{cases} 1 & \text{si } 0 \leq t < 4 \\ 0 & \text{si } t \geq 4 \end{cases}$
- $g(t) = \begin{cases} t & \text{si } 0 \leq t < 5 \\ 5 & \text{si } t \geq 5 \end{cases}$

Exercice 10 Transformées de Laplace inverse

Calculer les transformées de Laplace inverses des fonctions suivantes :

- $F_1(p) = \frac{2}{p+1}$
- $F_2(p) = \frac{1}{p^2-1}$
- $F_3(p) = \frac{p^2+5p+2}{p^3}$
- $F_4(p) = \frac{p^4+2p^2+2p+1}{p^5}$
- $F_5(p) = 7\frac{e^{-p}}{p}$
- $F_6(p) = -4\frac{e^{-2p}}{p+3}$
- $F_7(p) = 3\frac{1}{(p-2)^2}$
- $F_8(p) = 2\frac{p+1}{p^2+2p+2}$

Exercice 11

Calculer les transformées de Laplace inverses des fonctions suivantes :

- $F_1(p) = \frac{3p+4}{p^2+3p-4}$
- $F_2(p) = \frac{1}{p^2(p+1)}$
- $F_3(p) = \frac{(p-\omega)^2}{p(p^2+\omega^2)}$
- $F_4(p) = \frac{e^{-2p}}{p-1}$
- $F_5(p) = \frac{e^{-p\pi}}{p^2+4p+5}$
- $F_6(p) = \frac{e^{-p}}{(p^2+2p+2)(p+1)}$
- $F_7(p) = \frac{2}{(p+4)^4} - \frac{e^{-\frac{\pi}{3}p}}{p^2+4}$

Exercice 12 Équation différentielle d'ordre 1

On considère l'équation différentielle d'ordre 1 suivante

$$\begin{cases} y(t) = 0 & \text{si } t < 0 \\ 2y'(t) + y(t) = e^{-2t}\mathcal{U}(t) & \text{pour } t > 0 \\ y(0) = 1 \end{cases} \quad (6.1)$$

- Résoudre cette équation avec la méthode vue au semestre 1 (solutions = solution particulière + solutions de l'équation homogène).
- Détermination de la transformée de Laplace de y :**
On note F la transformée de y .
(a) Rappeler la formule de $\mathcal{L}_{f'(t)}(p)$

(b) Appliquer la transformée de Laplace à l'équation différentielle (6.1) et en déduire l'expression de $F(p)$ en fonction de p .

3. **Détermination de y :**

(a) Vérifier que $F(p) = -\frac{1}{3} \times \frac{1}{p+2} + \frac{8}{3} \times \frac{1}{2p+1}$.

(b) Déduire du résultat précédent l'expression de la solution $y(t)$ pour t positif.

Exercice 13 Équation différentielle d'ordre 2

L'étude d'un mouvement amorti amène à considérer la fonction f telle que :

$$\begin{cases} y(t) = 0 & \text{si } t < 0 \\ y''(t) + 2y'(t) + 2y(t) = e^{-t}\mathcal{U}(t) & \text{pour } t > 0 \\ y(0) = 1 \text{ et } y'(0) = 0. \end{cases} \quad (6.2)$$

On note F la transformée de y .

1. Donner la formule de $\mathcal{L}_{f''(t)}(p)$.

2. Appliquer la transformée de Laplace à l'équation différentielle (6.2) et en déduire l'expression de $F(p)$ en fonction de p .

3. Vérifier que $F(p) = \frac{1}{p+1} + \frac{1}{(p+1)^2 + 1}$.

4. Déduire du résultat précédent l'expression de $y(t)$ pour t positif.

Exercice 14 Systèmes d'équations différentielles

Résoudre les systèmes d'équations différentielles :

1.

$$\begin{cases} y'(t) + x(t) = \sin(t)\mathcal{U}(t), \\ x'(t) - y(t) = \cos(t)\mathcal{U}(t), \\ y(0) = 1, \quad x(0) = 0. \end{cases}$$

2.

$$\begin{cases} f'(t) = 4f(t) + g(t), \\ g'(t) = f(t) + 4g(t), \\ f(0) = 0, \quad g(0) = 1. \end{cases}$$

Exercice 15 Équation différentielle d'ordre 2

1. Résoudre avec la méthode de la transformée de Laplace l'équation différentielle

$$y'' + 5y' + 6y = 0$$

pour $x \geq 0$ avec les conditions initiales $y(0) = 3$ et $y'(0) = -7$.

2. Résoudre avec la méthode de la transformée de Laplace l'équation différentielle

$$y'' + 2y' + y = e^{-t}\mathcal{U}(t)$$

pour $t \geq 0$ avec les conditions initiales $y(0) = 0$ et $y'(0) = 1$.

Compléments

Exercice 16 On considère l'équation différentielle suivante :

$$\begin{cases} y'(t) + 2y(t) = (6 \cos(2t) + 6 \sin(2t))\mathcal{U}(t) \\ y(0) = 1 \end{cases}$$

1. Montrer que la transformée de Laplace de y est :

$$Y(p) = \frac{p^2 + 6p + 16}{(p + 2)(p^2 + 4)}$$

2. Déterminer a , b et c tels que $Y(p) = \frac{a}{p + 2} + \frac{bp + c}{p^2 + 4}$.

3. En déduire, l'expression de $y(t)$.

Exercice 17

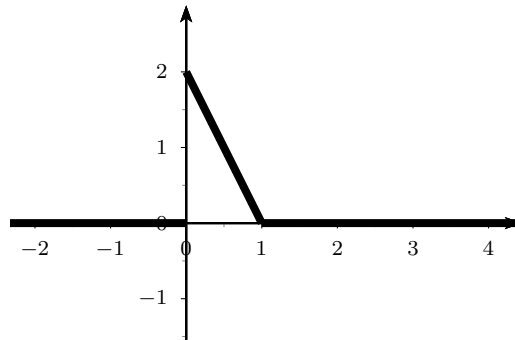
1. Déterminer les transformées de Laplace des fonctions causales suivantes :

(a) $f_1(t) = \frac{1 - e^{3t}}{4}\mathcal{U}(t)$

(c) $f_3(t) = e^{-5t}\frac{1 - e^{3t}}{4}\mathcal{U}(t)$

(b) $f_2(t) = \frac{1 - e^{3t}}{4}\mathcal{U}(t - 2)$

2. Soit f_4 le signal causal représenté par :



On veut calculer la transformée de Laplace de f_4 de deux façons différentes :

(a) Déterminer la transformée de Laplace de f_4 en utilisant la définition de la transformée de Laplace et en effectuant le calcul intégral.

(b) Déterminer la transformée de Laplace de f_4 en écrivant d'abord f_4 avec des fonctions échelon.

Exercice 18

Déterminer les transformées de Laplace inverses des fonctions suivantes :

1. $F(p) = \frac{p^6 + 4p^3 + 3p^2}{p^7}$

3. $H(p) = \frac{p + \pi}{p^2 + 2\pi p + \pi^2 + \pi}$

2. $G(p) = \frac{5}{p^2 - 5p}$

4. $K(p) = e^{-3p} \left(\frac{p + 1}{p^2 + 1} \right)$

Exercice 19 *Extrait de DS 2018*

Résoudre le système différentiel suivant avec f et g deux fonctions causales.

$$\begin{cases} f' + g' = -3f \\ f' - g' = f \\ f(0) = 1 \quad g(0) = 2 \end{cases}$$

Chapitre 7

Suites numériques

Exercice 1 *Attention à l'écriture !*

Soit quatre suites $(u_n)_{n \in \mathbb{N}}$, $(v_n)_{n \in \mathbb{N}}$ et $(w_n)_{n \in \mathbb{N}}$ respectivement définies par

$$u_n = \frac{7}{8}n^2, \quad v_n = 3n + 4, \quad w_n = \left(\frac{1}{2}\right)^n.$$

Calculer :

1. u_{10+3} , $u_{10} + 3$ et $u_{10} + u_3$,
2. v_{11^2} , v_{11}^2 , w_{3^3} et w_3^3 ,
3. w_{v_3} , v_{u_8} , et u_{w_2} .

Exercice 2 *Calcul des premiers termes*

Pour chaque suite calculer U_0 , U_1 , U_2 et U_3 (pour les suites définies de manière récurrente on prendra $U_0 = 1$) :

1. $U_n = 3n^2 + 1$,
2. $U_n = 3n + 1$,
3. $U_{n+1} = 3U_n + 1$,
4. $U_n = 3^n + 1$,
5. $U_{n+1} = 3^{U_n} + 1$,
6. $U_{n+1} = 3U_n + n$.

Exercice 3 *Arithmétiques ou géométriques ?*

Dire si les suites suivantes sont arithmétiques ou géométriques ou ni l'une ni l'autre.

1. $U_n = 3n + 1$,
2. $U_{n+1} = 3U_n + 1$,
3. $U_{n+1} = U_n + 3$,
4. $U_n = 3^n + 1$,
5. $U_n = n^n$,
6. $U_{n+1} = \frac{U_n}{2}$.

Exercice 4 *Suites géométriques*

Montrer que les suites sont des suites géométriques et les écrire sous la forme $U_0 \times q^n$ puis déterminer la limite en $+\infty$.

1. $U_n = \frac{3}{2^n}$,
2. $U_n = 2^{n+1}$,
3. $U_n = (\sqrt{2})^{3n}$,
4. $U_n = \frac{3^n}{2^{2n}}$.

Exercice 5 *Limites de suites*

Déterminer, si elles existent, les limites des suites suivantes :

1. $u_n = \left(\frac{13}{\sqrt{170}}\right)^n$,
2. $u_n = \left(\frac{\sqrt{2}}{2}\right)^{3n}$,
3. $u_n = \left(\frac{3}{\pi}\right)^{-2n}$,
4. $u_n = (-1)^n \times \frac{n+1}{n}$,
5. $u_n = \left(\frac{1+i}{2}\right)^n$,
6. $u_n = -3\sqrt{(1,05)^{\frac{n}{2}}}$.

Exercice 6 *Symbole Σ*

1. Exprimer à l'aide d'un signe sigma :

$$A = \frac{1}{2} + \frac{1}{4} + \frac{1}{8} + \frac{1}{16} + \frac{1}{32} + \dots + \frac{1}{256} \quad \text{puis} \quad B = -\frac{1}{2} + \frac{1}{4} - \frac{1}{8} + \frac{1}{16} - \frac{1}{32} + \dots + \frac{1}{256}$$

2. Écrire les sommes suivantes avec le signe Σ puis les calculer :

(a) $2^5 + 2^6 + \dots + 2^{11} + 2^{12}$.

(b) $4 + 7 + 10 + 13 + 16 + 19$.

(c) $1 + \pi + \pi^2 + \dots + \pi^{99} + \pi^{100}$.

(d) La somme des entiers multiples de 7 supérieurs à 100 et plus petits que 1000.

3. Montrer que $\sum_{k=2}^{n+1} 2^{k-1} = \sum_{k=0}^{n-1} 2^{k+1}$.

Exercice 7 *Calcul de sommes*

Calculer les sommes suivantes :

1. $\sum_{k=0}^{15} 2k + 3$,

2. $\sum_{n=1}^{12} 3 \times \frac{1}{2^n}$,

3. $\sum_{n=2}^7 2n + 3^n$,

4. $\sum_{k=3}^{18} e^{ki\frac{\pi}{2}}$,

5. $\sum_{k=17}^{53} (-1)^k$.

Exercice 8

Toutes les réponses seront données sous la forme :

- d'une expression littérale,
- d'un calcul posé
- et enfin d'une application numérique.

1. Soit $(u_n)_{n \in \mathbb{N}}$ une suite arithmétique de premier terme $U_0 = 3$ et de raison -4 .

Déterminer u_7 , u_{18} et $\sum_{i=7}^{18} u_i$.

2. Soit $(u_n)_{n \in \mathbb{N}^*}$ une suite géométrique de premier terme $U_0 = 5$ et de raison $-\frac{1}{2}$.

Déterminer u_7 , u_{18} et $\sum_{i=7}^{18} u_i$.

3. Soit $(u_n)_{n \in \mathbb{N}}$ une suite arithmétique. On donne $u_4 = 7$ et $u_7 = 1$.

Déterminer la raison et le premier terme de cette suite.

4. Soit $(u_n)_{n \in \mathbb{N}}$ une suite géométrique. On donne $u_4 = 4$ et $u_7 = 108$.

Déterminer la raison et le premier terme de cette suite.

Exercice 9 *Sommes de suites arithmétiques et géométriques*

Les questions suivantes sont indépendantes.

1. Soit (U_n) une suite arithmétique de premier terme $U_0 = 3$ et telle que $\sum_{k=0}^{10} U_k = 99$.

Déterminer la raison de la suite.

2. Soit la suite (U_n) définie pour tout entier n par : $U_n = 3 \times \left(\frac{1}{2}\right)^n - 4n + 3$.

Calculer la somme : $S_N = U_0 + U_1 + U_2 + \dots + U_N$ en fonction de N .

Exercice 10 *Limites de sommes*

Soit la suite réelle $(u_n)_{n \in \mathbb{N}}$ définie par son premier terme u_0 et la relation de récurrence :

$$\forall n \in \mathbb{N}, u_{n+1} = \frac{2}{3}u_n + \frac{1}{3}.$$

1. Démontrer qu'il existe une valeur de u_0 pour laquelle $(u_n)_{n \in \mathbb{N}}$ est une suite constante.
2. On pose dorénavant $u_0 = 2$ et on définit la suite $(v_n)_{n \in \mathbb{N}}$ par :

$$\forall n \in \mathbb{N} v_n = u_n - 1$$

Montrer que $(v_n)_{n \in \mathbb{N}}$ est une suite géométrique dont on déterminera le premier terme et la raison.

3. Exprimer v_n puis u_n en fonction de n .
4. Déterminer la limite de la suite $(u_n)_{n \in \mathbb{N}}$.
5. On pose $S_n = v_0 + v_1 + \dots + v_n$ et $S'_n = u_0 + u_1 + \dots + u_n$.
 - (a) Exprimer S_n et S'_n en fonction de n .
 - (b) Déterminer les limites de S_n et de S'_n lorsque n tend vers $+\infty$.

Exercice 11 *Extrait de DS 2016*

1. Soit $(U_n)_{n \in \mathbb{N}}$ une suite arithmétique de raison r et de premier terme U_0 .
Sachant que

$$U_0 + U_1 + U_2 = \frac{5}{2} \quad \text{et} \quad U_1 + U_2 + U_3 = \frac{7}{2}$$

Déterminer les valeurs de r et U_0 .

2. Soit $(V_n)_{n \in \mathbb{N}}$ une suite géométrique de raison q et de premier terme V_0 .
Sachant que

$$V_0 + V_1 + V_2 = \frac{26}{9} \quad \text{et} \quad V_1 + V_2 + V_3 = \frac{26}{27}$$

Déterminer les valeurs de q et V_0 .

Exercice 12 Répondre par vrai ou faux en justifiant

1. Le produit de 2 suites géométriques est une suite géométrique.
2. La somme de 2 suites géométriques est une suite géométrique.
3. Le quotient de 2 suites géométriques est une suite géométrique.
4. Le produit de 2 suites arithmétiques est une suite arithmétique.
5. La somme de 2 suites arithmétiques est une suite arithmétique.

Compléments

Exercice 13 Dans chacun des cas ci-dessous exprimez u_n en fonction de n .

1. (u_n) est une suite arithmétique telle que : $u_3 = 2$ et $u_{11} = 0$.
2. (u_n) est une suite géométrique de raison q telle que : $q = 2$ et $u_0 + u_1 + \dots + u_7 = 510$.

Exercice 14 Pour chacune des suites $u_n = (-3)^{2n+1}$ et $v_n = \frac{e^{(n+1)^2}}{e^n}$:

1. Calculez les 3 premiers termes de la suite.
2. Précisez en justifiant si la suite est géométrique ou non. Si oui, précisez sa raison.

Chapitre 8

DS de l'année 2023-2024

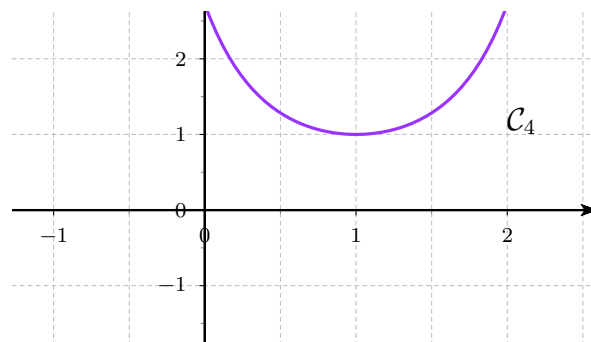
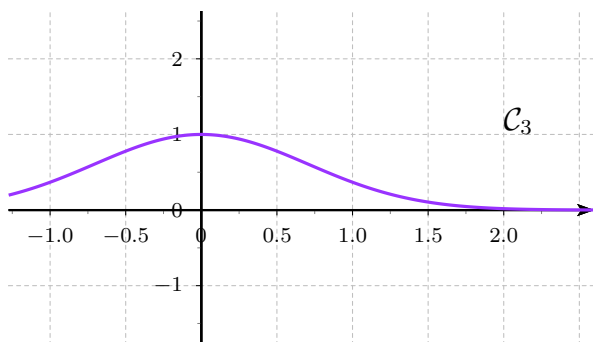
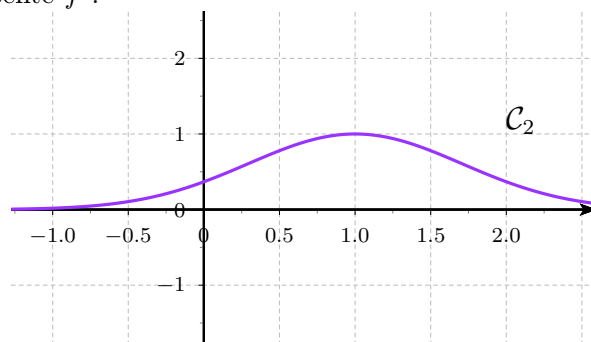
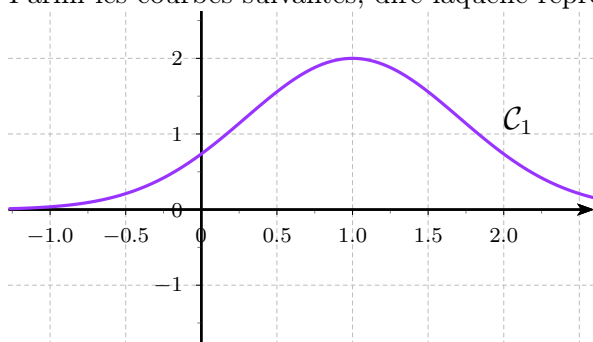
Mathématiques - Devoir Surveillé 1 Vendredi 9 février 2024 - Durée : 1h30

Tout document et appareil électronique est interdit

Toute réponse doit être rigoureusement justifiée et une attention particulière sera portée à la rédaction et à la présentation.

Exercice 15 Soit la fonction $f(x) = e^{-x^2+2x-1}$

1. Déterminer l'ensemble de définition de f .
2. Calculer la dérivée de f et en déduire le sens de variation de f .
3. Déterminer les limites de f en $-\infty$ et $+\infty$ et compléter le tableau de variation de f .
4. Parmi les courbes suivantes, dire laquelle représente f :



Exercice 16

1. Soient les fonctions $f_1(x) = \sqrt{2x-1}$, $g_1(x) = \cos(x+2)$ et $h_1(x) = \frac{x}{x+2}$. Déterminer

(a) $f_1 \circ g_1$ (b) $h_1 \circ g_1$ (c) $h_1 \circ h_1$

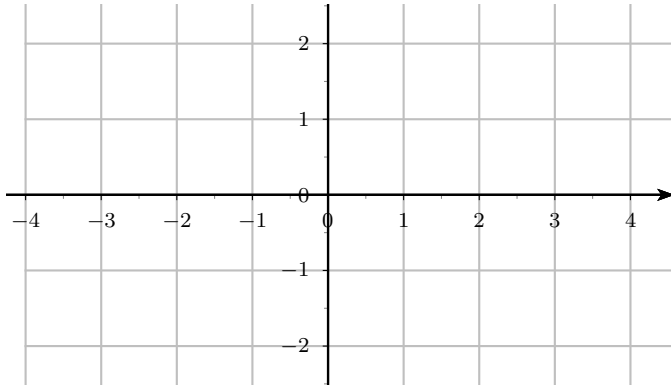
2. On considère la fonction $f(x) = (x + 3)^3 - 5$. Décomposer f sous la forme $w \circ v \circ u(x)$ avec w , v et u trois fonctions différentes de l'identité.

3. Résoudre les équations et inéquations suivantes :

(a) $|2x - 3| = 7$ (b) $|x + 5| < 2$ (c) $|3x + 1| = |x - 2| + 1$

4. Tracer, sur le graphique ci-dessous, les courbes représentatives des fonctions suivantes

(a) $f(x) = |1 - \frac{1}{2}x|$ (b) $g(x) = |\sin(x)|$



Exercice 17

1. Calculer les limites suivantes :

(a) $\lim_{x \rightarrow +\infty} \frac{e^{x+1}}{e^{x-3}}$ (b) $\lim_{x \rightarrow +\infty} \frac{\ln(x+3)}{x-4}$ (c) $\lim_{x \rightarrow +\infty} \ln\left(\frac{1}{x+2}\right)$ (d) $\lim_{x \rightarrow +\infty} x + e^{-x} - \ln(x)$ (e) $\lim_{x \rightarrow -3} \frac{x^2 + x - 6}{x^2 - 6}$

2. Calculer les dérivées des fonctions suivantes :

(a) $f(x) = \sqrt{2x - 1}$ (b) $g(x) = \cos\left(3x + \frac{\pi}{3}\right)$ (c) $h(x) = \frac{3x}{2x - 1}$ (d) $k(x) = (3x + 4) \ln(-2x + 1)$

Exercice 18

1. Déterminer le module et l'argument de : $z = \frac{R_1 + jC\omega}{R_2 + jC\omega}$
 2. Déterminer ω en fonction de ω_0 : $1 + \frac{\omega}{\omega_0} = \frac{\omega}{2\omega_0}$

Exercice 19 On considère les matrices suivantes :

$$A = \begin{pmatrix} -1 & 4 & 7 \\ 3 & -2 & 0 \end{pmatrix} \quad B = \begin{pmatrix} 0 \\ -2 \\ 5 \end{pmatrix} \quad C = \begin{pmatrix} 3 & 4 \\ 2 & -6 \end{pmatrix}$$

1. Les calculs suivants sont-ils possibles ? Si oui, faites le calcul !

-
- (a) $A + C$ (b) $A \times B$ (c) $4 \times C$ (d) $B \times C$ (e) tA

2. Déterminer la matrice D telle que :

$$D \in \mathcal{M}_{2,3}(\mathbb{R}) \quad \text{et} \quad d_{i,j} = 2i - j$$

3. On considère les matrices E et F , sont elles l'inverse l'une de l'autre ?

$$E = \begin{pmatrix} 2 & 5 \\ -1 & -3 \end{pmatrix} \quad F = \begin{pmatrix} 3 & 10 \\ -1 & -4 \end{pmatrix}$$

Mathématiques - Devoir Surveillé 2

Vendredi 29 mars 2024 - Durée : 1h30

Tout document et appareil électronique est interdit

Toute réponse doit être rigoureusement justifiée et une attention particulière sera portée à la rédaction et à la présentation.

Exercice 1 Soit la fonction $f(x) = \ln(x + 2) - 3$

- Déterminer l'ensemble de définition de f . On le notera D par la suite.
- Montrer que f est bijective de D dans \mathbb{R} .
- Déterminer la réciproque de f .

Exercice 2 Donner les valeurs en justifiant la démarche :

- $\arcsin(0.5)$
- $\arccos(-1)$
- $\arctan\left(\tan\left(\frac{2\pi}{3}\right)\right)$
- $\arccos\left(\cos\left(\frac{2\pi}{3}\right)\right)$
- $\arccos\left(\sin\left(\frac{2\pi}{3}\right)\right)$
- $\lim_{t \rightarrow +\infty} \arcsin(t)$

Exercice 3 Soient les matrices A , B et C suivantes

$$A = \begin{pmatrix} -7 & 21 \\ 4 & -12 \end{pmatrix} \quad B = \begin{pmatrix} 1 & 3 & 4 \\ 2 & 1 & 2 \\ 0 & 2 & 2 \end{pmatrix} \quad C = \begin{pmatrix} 5 & 3 & -4 & 2 \\ 0 & 0 & -2 & 3 \\ 1 & 7 & 0 & 0 \\ 0 & -3 & 0 & 2 \end{pmatrix}$$

- Calculer les déterminants de A , B et C
- A , B et C sont-elles inversibles ?
- Calculer, si possible, A^{-1} et B^{-1}

Exercice 4 Résoudre les systèmes suivants en utilisant la **méthode de Gauss**.

1.

$$\begin{cases} x + y - 2z = 7 \\ 2x + 3y - 5z = 19 \\ -3x + 5y - z = 15 \end{cases}$$

2.

$$\begin{cases} 3a + 2b = 1 \\ -7a - 4b = 5 \end{cases}$$

Exercice 5 Les questions 1,2 et 3 sont indépendantes.

1. Soient les polynômes $P_1(X) = X^5 + 2X^4 + 3X^2 + X - 5$ et $Q(X) = X(X + 1)^2$.
Donner le degré de :

(a) $R_1(X) = P(X) \times Q(X)$

(c) $R_3(X) = P(X) - (X^2 + 1)Q(X)$

(b) $R_2(X) = Q \circ P(X)$

2. Déterminer un polynôme P_2 tel que :

- $\deg(P_2) = 8$
- $P_2 \in \mathbb{R}[X]$
- -3 et $1+2i$ sont racines simples de P_2
- 42 est racine de multiplicité 3 de P_2

3. Le polynôme $P_3(X) = X^3 + (1 + 3i)X^2 + 2 - 3i$ admet-il une racine réelle ?

Exercice 6 Soient les polynômes $P(X) = X^5 - 2X^4 - 3X^3 - 12X^2 - 28X - 16$.

1. Montrer que $2i$ est racine de P
2. $a = -1$ est racine de P . Déterminer sa multiplicité.
3. Poser la division euclidienne de P par $(X - 4)$.
4. Donner la forme factorisée de P dans $\mathbb{C}[X]$.
5. Donner la forme factorisée de P dans $\mathbb{R}[X]$.

Mathématiques - Devoir Surveillé 3

Vendredi 7 juin 2024 - Durée : 1h30

Tout document et appareil électronique est interdit

Toute réponse doit être rigoureusement justifiée et une attention particulière sera portée à la rédaction et à la présentation.

Exercice 1 Calculer par la méthode de votre choix

1. $I_1 = \int_{-4}^4 e^{-\frac{1}{4}t+3} dt$

3. $I_3 = \int_0^{\frac{\pi}{4}} \cos(3x) \cos(5x) dx$

2. $I_2 = \int_{-2}^2 t^3 e^{t^2+3} dt$

4. $I_4 = \int_1^e \frac{2}{\ln(t) + 4} \times \frac{1}{t} dt$

(indication : on pourra poser le changement de variable $u = \ln(t)$)

Exercice 2

1. Déterminer la D.E.S de la fonction $f(t) = \frac{25x^2}{(x^2 + 3x - 4)(x + 4)}$.

2. Calculer $I_6 = \int_{-2}^0 \frac{25x^2}{(x^2 + 3x - 4)(x + 4)} dt$

Exercice 3

1. Calculer l'intégrale de la fonction g sur l'intervalle $[-2; 7]$:
— g est périodique de période 3

- $g(x) = 3$ sur l'intervalle $[0, 2[$
 - $g(x) = -1$ sur l'intervalle $[2, 3[$
2. Calculer l'intégrale $J_3 = \int_{-1}^4 |x^2 - 1| dx$
 3. Soit p un réel strictement positif. Déterminer en fonction de p : $\int_0^{+\infty} t e^{-pt} dt$

Exercice 4

1. Déterminer la nature de chaque intégrale généralisée :

(a) $K_1 = \int_{-1}^{+\infty} \frac{5}{(2t+3)^2+1} dt$ (b) $K_2 = \int_1^{+\infty} \frac{1}{\sqrt{t^3}} dt$

2. Calculer la valeur de K_1

Exercice 5 Dire si les équivalences suivantes sont vraies ou fausses

1. $\frac{t^2+t}{(t^3-1)(t+5)} \underset{+\infty}{\sim} \frac{1}{t}$
2. $\sin(\sqrt{t}) \underset{+\infty}{\sim} \sqrt{t}$
3. $\cos(t) - 1 \underset{0}{\sim} t$

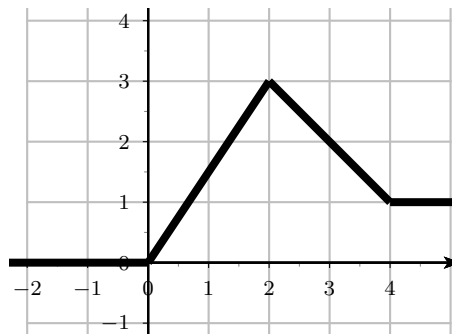
Exercice 6

1. Tracer, sur votre copie le plus proprement possible, les représentations graphiques des fonctions suivantes :

(a) $f(t) = (-\frac{1}{2}t + 1)\mathcal{U}(t) + (t - 1)\mathcal{U}(t - 2) - \frac{t}{2}\mathcal{U}(t - 4)$

(b) $f(t) = \mathcal{U}(t - 1) + 2\mathcal{U}(t - 2) - 5\mathcal{U}(t - 3)$

2. Déterminer une écriture de la fonction tracée ci-dessous avec des fonctions échelons :



Exercice 7 Calculer les transformées de Laplace de chacune des fonctions suivantes :

1. $f_1(t) = (3t^4 - 2t^3 + t)\mathcal{U}(t)$
2. $f_2(t) = (e^{-3t} - e^{3t})\mathcal{U}(t)$
3. $f_3(t) = \sin(3t)\mathcal{U}(t - \frac{\pi}{4})$
4. $f_4(t) = \mathcal{U}(t - 2) - 3t^2\mathcal{U}(t - 3)$

Chapitre 9

DS de l'année 2022-2023

Mathématiques - Devoir Surveillé 1 Vendredi 17 février 2023 - Durée : 1h30

Tout document et appareil électronique est interdit

Toute réponse doit être rigoureusement justifiée et une attention particulière sera portée à la rédaction et à la présentation.

Exercice 1 *Chapitre 7 (semestre 1) : étude de fonctions*

Calculer les limites suivantes :

1. $\lim_{x \rightarrow +\infty} x^3 - 2x + 1$

3. $\lim_{x \rightarrow +\infty} \frac{e^{3x+1}}{e^{x^2+3}}$

5. $\lim_{x \rightarrow +\infty} xe^{-x}$

2. $\lim_{x \rightarrow -\infty} \frac{2x^2+3x+1}{x+2}$

4. $\lim_{x \rightarrow 2} \frac{x^2-x-2}{x-2}$

6. $\lim_{x \rightarrow 0} (x+2) \ln(x)$

Exercice 2 *Chapitre 7 (semestre 1) : étude de fonctions*

Déterminer les valeurs de x décrites par les équations et inéquations suivantes :

1. $|x| \geq 2$

3. $|x| = -2$

2. $|x+4| < 2$

4. $|x+1| = |2x+1|$

Exercice 3 *Chapitre 1 : fonctions réciproques*

Calculer :

1. $\arcsin(-0.5)$

3. $\arctan\left(\tan\left(-\frac{5\pi}{6}\right)\right)$

2. $\arccos\left(\cos\left(\frac{4\pi}{3}\right)\right)$

4. $\arccos\left(\sin\left(\frac{23\pi}{6}\right)\right)$

Exercice 4 *Chapitre 1 : fonctions réciproques*

Soit f la fonction définie par $f(x) = -x^2 + 4x - 3$.

1. Donner l'ensemble de définition de f .

2. Déterminer la dérivée de f .

3. Dresser le tableau de variation de f (avec les éventuelles limites et images de f).

4. Tracer l'allure de la courbe représentative de f sur le graphique de la page suivante.

5. Déterminer l'image par f de :

(a) l'intervalle $[-1, 0[$

(b) l'intervalle $[1, 4[$

(c) l'intervalle $]3, +\infty[$

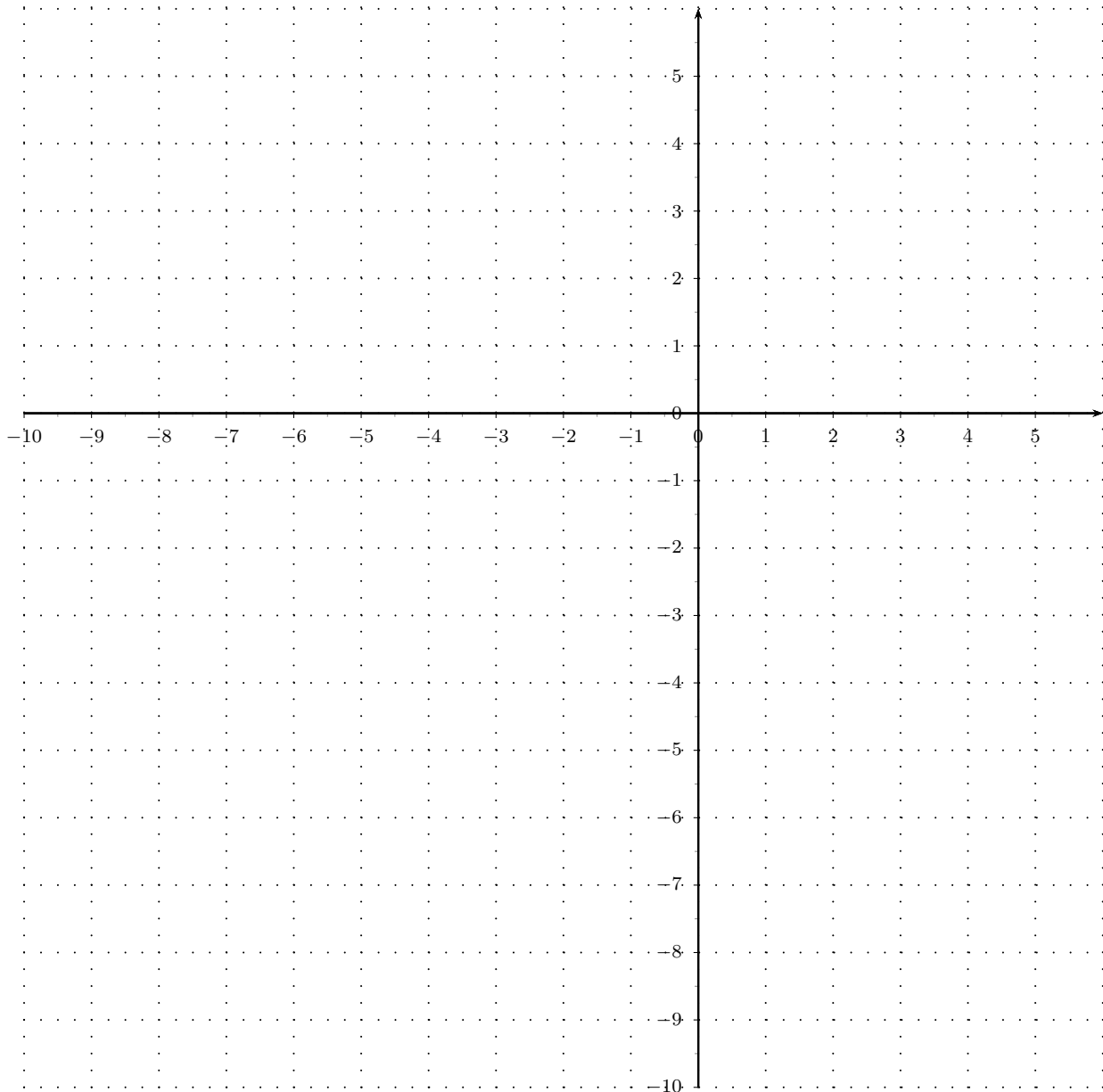
6. Montrer que f est une bijection de $[2, +\infty[$ dans un ensemble E que l'on déterminera.

7. Soit g la fonction définie par : $g(x) = \sqrt{1-x} + 2$.

(a) Donner l'expression de la fonction composée $f \circ g$.

(b) Que pouvez-vous en déduire ?

(c) Tracer la courbe représentative de g sur le graphique de la page suivante.



Exercice 5 Poly ski : Introduction au calcul matriciel

On considère les matrices suivantes :

$$A = \begin{pmatrix} 1 & 4 & 0 \\ 2 & 0 & 2 \\ 0 & 1 & 1 \end{pmatrix} \quad B = \begin{pmatrix} 1 \\ 2 \\ 1 \end{pmatrix} \quad C = \begin{pmatrix} 3 \\ 2 \\ 0 \end{pmatrix}$$

1. Les calculs suivants sont-ils possibles ? Si oui, faites le calcul !

- (a) $A + B$ (b) $A \times B$ (c) $B + C$ (d) $B \times C$ (e) $2 \times B$

2. Déterminer la matrice transposée de A .
3. Déterminer la matrice D telle que :

$$D \in \mathcal{M}_{3,2}(\mathbb{R}) \quad \text{et} \quad d_{i,j} = i - j$$

Mathématiques - Devoir Surveillé 2

Vendredi 14 avril 2023 - Durée : 1h30

Tout document et appareil électronique est interdit

Toute réponse doit être rigoureusement justifiée et une attention particulière sera portée à la rédaction et à la présentation.

Exercice 1 Chapitre 2 : Systèmes linéaires et matrices

Les matrices suivantes sont-elles inversibles ? Si oui, déterminer la matrice inverse.

$$A = \begin{pmatrix} 3 & 2 \\ 1 & -2 \end{pmatrix} \quad B = \begin{pmatrix} 1 & 3 & 4 \\ 0 & 2 & 2 \\ 1 & 1 & 2 \end{pmatrix}$$

Exercice 2 Chapitre 2 : Systèmes linéaires et matrices

1. Résoudre le système suivant en utilisant la **méthode de Gauss**.

$$\begin{cases} x + y - z = 3 \\ 2x - 3y + z = -8 \\ 3x + y + 2z = 11 \end{cases}$$

2. On considère le système suivant :

$$\begin{cases} 3x + 2z = 8 \\ x - 2z = 16 \\ x + 2y = -8 \end{cases}$$

- (a) Ecrire le système sous la forme $AX = B$ avec $A \in \mathcal{M}_{3,3}(\mathbb{R})$, $X \in \mathcal{M}_{3,1}(\mathbb{R})$ et $B \in \mathcal{M}_{3,1}(\mathbb{R})$.
(b) Calculer le déterminant de la matrice A
(c) Déterminer la matrice inverse de A
(d) Résoudre le système **matriciellement**

Exercice 3 Chapitre 3 : Polynômes

Soient les polynômes $P(X) = X^6 - 5X^5 + 10X^4 - 8X^3 - 4X^2 + 12X - 8$
et $Q(X) = X^2 - X - 2$.

1. Donner le degré de :

- (a) $R_1(X) = P(X) \times Q(X)$ (c) $R_3(X) = P(X) - Q(X)$
(b) $R_2(X) = P(X) \circ Q(X)$ (d) $R_4(X) = P(X) - X^4 Q(X)$

2. Effectuer la division euclidienne de P par Q .
3. Calculer $(1+i)^2$ puis en déduire $(1+i)^3$ et $(1+i)^4$.
4. Montrer que $1+i$ est racine du polynôme $R(X) = X^4 - 4X^3 + 8X^2 - 8X + 4$.
5. Déterminer la multiplicité de la racine $1+i$ pour R
6. Déterminer, en justifiant, une autre racine de R ainsi que sa multiplicité.
7. Factoriser P dans \mathbb{C}
8. En déduire la factorisation de P dans \mathbb{R}

Exercice 4 Chapitre 3 : Polynômes

1. Donner la DES de $F_1(X) = \frac{X-1}{(X+1)(X-2)}$
2. Donner la DES de $F_2(X) = \frac{X-1}{(X+1)^2(X-2)}$
3. Donner la forme de la DES de $F_3(X) = \frac{X-2}{(X^2+1)(X-1)}$

Mathématiques - Devoir Surveillé 3

Vendredi 2 juin 2023 - Durée : 1h15

Tout document et appareil électronique est interdit

Toute réponse doit être rigoureusement justifiée et une attention particulière sera portée à la rédaction et à la présentation.

Exercice 1 Chapitre 4 : Calcul intégral - partie 1

Déterminer les primitives des fonctions suivantes :

- | | |
|--------------------------------------|---------------------------------|
| 1. $f_1(x) = \frac{6x+15}{x^2+1}$ | 3. $f_3(x) = \frac{6x+15}{x^2}$ |
| 2. $f_2(x) = \frac{6x+15}{x^2+5x+1}$ | 4. $f_4(x) = \frac{6x+15}{7}$ |

Exercice 2 Chapitre 4 : Calcul intégral - partie 1

Calculer par la méthode de votre choix

1. $I_1 = \int_2^3 (4t-2) \ln(t-1) dt$
2. $I_2 = \int_0^{\frac{\pi}{2}} \sin(2t) \cos(5t) dt$
3. $I_3 = \int_0^{\frac{\pi}{4}} \sin^4(2x) \cos^3(2x) dx$
(indication : on pourra poser le changement de variable $t = \sin(2x)$)
4. $I_4 = \int_0^{\frac{1}{3}} (2t+1)e^{-3x} dx$

Exercice 3 Chapitre 4 : Calcul intégral - partie 1

1. Calculer l'intégrale de la fonction f sur l'intervalle $[-4; 4]$:

$$f(t) = \begin{cases} 0 & \text{si } t < -3 \\ t+1 & \text{si } t \in [-3; 0[\\ t-1 & \text{si } t \in [0; 3] \\ 0 & \text{si } t > 3 \end{cases}$$

2. Calculer l'intégrale de la fonction g sur l'intervalle $[-2; 7]$:
 - g est périodique de période 3
 - $g(x) = 3$ sur l'intervalle $[0, 2[$
 - $g(x) = -1$ sur l'intervalle $[2, 3[$
3. Calculer l'intégrale $J_3 = \int_{-1}^4 |x^2 - 1| dx$

Exercice 4 Chapitre 5 : Calcul intégral - partie 2

1. Déterminer la nature de chaque intégrale généralisée :

(a) $K_1 = \int_1^{+\infty} \frac{e^{-t}}{t^3 + t^2 + 2} dt$

(b) $K_2 = \int_1^{+\infty} \frac{1}{t} \sin\left(\frac{1}{\sqrt{t}}\right) dt$

(c) $K_3 = \int_1^{+\infty} \frac{4}{x^2 + 11x + 30} dx$

2. Calculer la valeur de K_3

Exercice 5 Chapitre 5 : Calcul intégral - partie 2

1. Montrer que

$$\int_0^1 \frac{2xe^x}{3(x+1)^2} dx = \left[\frac{-2}{3(x+1)} \times xe^x \right]_0^1 - \int_0^1 \frac{-2}{3(x+1)} \times (1+x)e^x dx$$

2. En déduire la valeur de $J = \int_0^1 \frac{2xe^x}{3(x+1)^2} dx$.

Mathématiques - Interrogation 2 - sujet 5

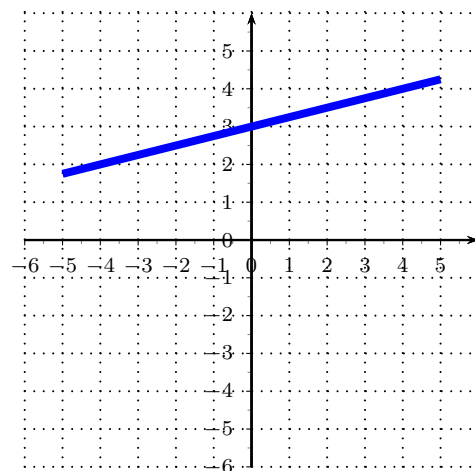
Juin 2023 - Durée : 20 min

Tout document et appareil électronique est interdit

Toute réponse doit être rigoureusement justifiée et une attention particulière sera portée à la rédaction et à la présentation.

Exercice 6 Chapitre 6 : Laplace

1. Tracer sur le graphique ci-dessous la droite d'équation $y = -3t + 2$.

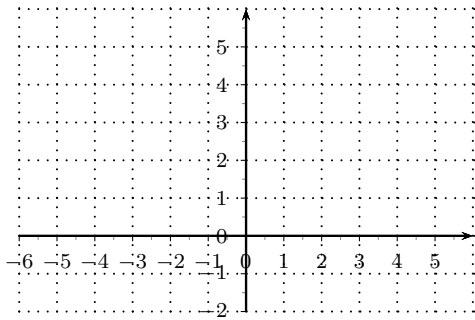


2. Donner l'équation de la droite tracée ci-dessous : $y =$

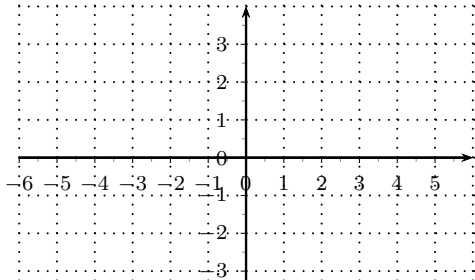
Exercice 7 Chapitre 6 : Laplace

Ecrire les fonctions suivantes sans utiliser la fonction \mathcal{U} puis tracer leur courbe représentative.

1. $f_1(t) = 3\mathcal{U}(t) - 2\mathcal{U}(t - 2) + \mathcal{U}(t - 3) - 3\mathcal{U}(t - 4)$

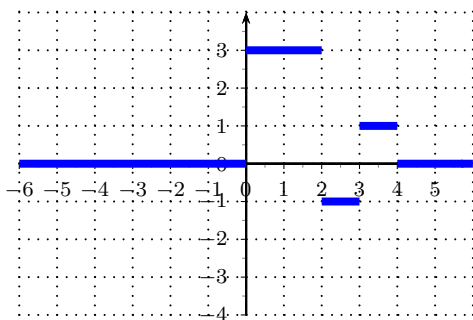


2. $f_2(t) = t\mathcal{U}(t) - t\mathcal{U}(t-1) + (-2t+6)\mathcal{U}(t-3) + (2t-7)\mathcal{U}(t-4)$



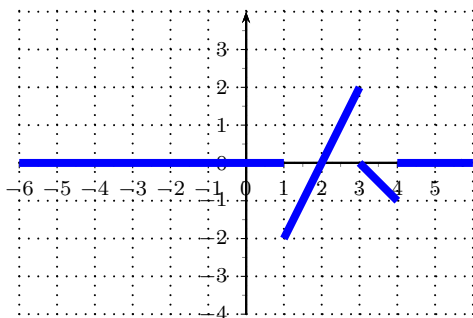
Exercice 8 *Chapitre 6 : Laplace* Donner l'expression des fonctions suivantes en utilisant la fonction \mathcal{U} .

1.



$f_1(t) =$

2.



$f_2(t) =$

Exercice 9 *Chapitre 6 : Laplace* Calculer les transformées de Laplace de chacune des fonctions suivantes :

1. $f_1(t) = (4t - 2)\mathcal{U}(t) \quad \mathcal{L}_{f_1}(p) =$

2. $f_2(t) = (5t^3 + 3t^2)\mathcal{U}(t) \quad \mathcal{L}_{f_2}(p) =$

3. $f_3(t) = e^{-t}\mathcal{U}(t) \quad \mathcal{L}_{f_3}(p) =$

4. $f_4(t) = \cos(t)\mathcal{U}(t) \quad \mathcal{L}_{f_4}(p) =$

5. $f_5(t) = 2e^{5t}\mathcal{U}(t) \quad \mathcal{L}_{f_5}(p) =$

Chapitre 10

DS de l'année 2021-2022

Mathématiques - Interrogation 1 - sujet 1 Mars 2022 - Durée : 40min

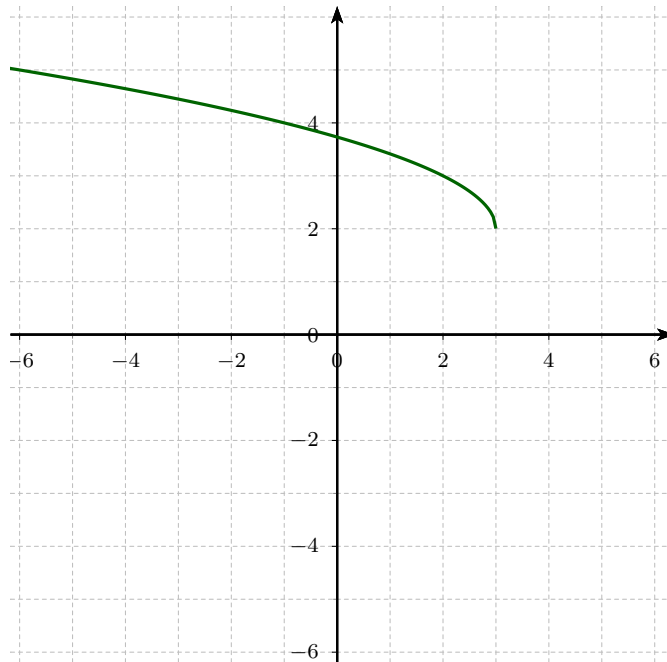
Tout document et appareil électronique est interdit

Toute réponse doit être rigoureusement justifiée et une attention particulière sera portée à la rédaction et à la présentation.

Exercice 10 Chapitre 1 : fonctions réciproques

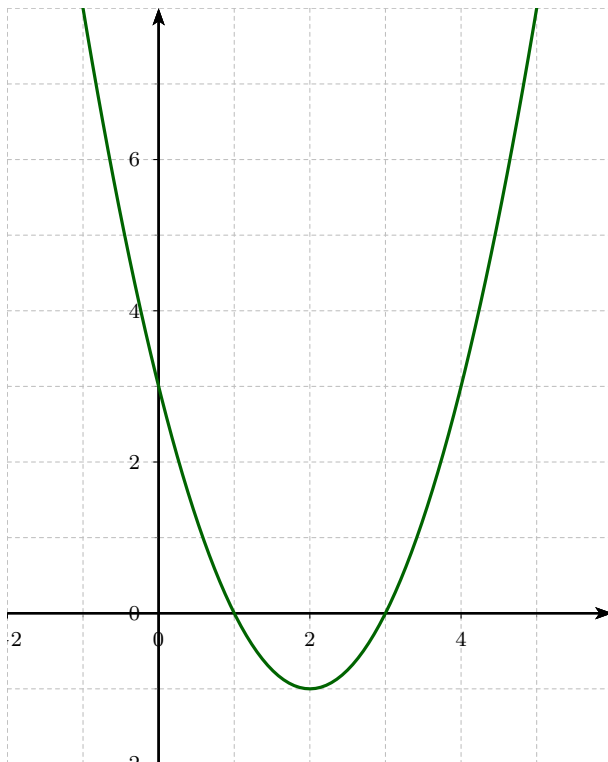
Soit la fonction $f(x) = \sqrt{1 - 3x} - 2$

1. Déterminer D , l'ensemble de définition de f .
2. Montrer que f est bijective de D dans un ensemble E à déterminer.
3. Déterminer la fonction réciproque de f .
4. Sur le graphique ci-dessous nous avons tracé la courbe représentative de f . Tracer la courbe de la réciproque de f .



Exercice 11 *Chapitre 1 : fonctions réciproques*

Soit la fonction $f(x) = (x - 2)^2 - 1$ dont le graphe est :



Déterminer, sans justifier :

1. $f(\mathbb{R}) =$
2. $f([3; 4]) =$
3. $f(]0; 3]) =$

Exercice 12 *Chapitre 1 : fonctions réciproques*

Déterminer sans justifier

- | | |
|----------------------|--------------------------------------|
| 1. $\arccos(-0,5) =$ | 4. $\arccos(\cos(-\frac{\pi}{6})) =$ |
| 2. $\arcsin(-0,5) =$ | 5. $\arcsin(\cos(-\frac{\pi}{6})) =$ |
| 3. $\arctan(-1) =$ | 6. $\arctan(\tan(\frac{2\pi}{3})) =$ |

Mathématiques - Devoir Surveillé 1
Vendredi 18 février 2022 - Durée : 1h00

Tout document et appareil électronique est interdit

Toute réponse doit être rigoureusement justifiée et une attention particulière sera portée à la rédaction et à la présentation.

Exercice 1 *Poly ski : Introduction au calcul matriciel*

Les questions suivantes sont indépendantes.

1. Soit la matrice :

$$A = \begin{pmatrix} 1 & -2 & 2 \\ 0 & 1 & 0 \\ 0 & 2 & -1 \end{pmatrix}$$

Calculer A^2 et en déduire la matrice inverse de A .

2. Déterminer la matrice B telle que

$$B \in \mathcal{M}_{2,3}(\mathbb{R}) \quad \text{et} \quad b_{i,j} = 3^{j-i}$$

3. Soient les matrices C , D et E suivantes

$$C = \begin{pmatrix} 2 & 3 & 5 \\ 1 & -2 & 0 \end{pmatrix} \quad D = \begin{pmatrix} 4 & 1 & 3 \end{pmatrix} \quad E = \begin{pmatrix} 2 \\ -5 \\ 1 \end{pmatrix}$$

Indiquer les calculs qui sont possibles et ceux qui sont impossibles (on ne demande pas de faire les calculs) : $C + E$, $C \times E$, $E \times C$, et C^2 .

4. Donner un exemple de matrice triangulaire supérieure.

5. Donner un exemple de matrice F de taille 3×3 telle que ${}^tF = F$.

6. Donner l'écriture matricielle du système (on ne demande pas de résoudre) :

$$\begin{cases} 2x & -y & = & 3 \\ 3x & +y & = & 2 \end{cases}$$

Exercice 2 Chapitre 7 (semestre 1) : étude de fonctions

Calculer les limites suivantes :

1. $\lim_{x \rightarrow -\infty} \frac{x^2 + x - 12}{x - 3}$

4. $\lim_{x \rightarrow +\infty} x - e^{-\ln(x)+10}$

2. $\lim_{x \rightarrow 3} \frac{x^2 + x - 12}{x - 3}$

5. $\lim_{x \rightarrow -\infty} e^{2x+1} + 3x - 5$

3. $\lim_{x \rightarrow +\infty} \frac{-3e^x}{\ln(x) + 10}$

6. $\lim_{x \rightarrow +\infty} \frac{e^{2x+1}}{e^{-x^2+3}}$

7. $\lim_{x \rightarrow +\infty} \ln(x^2 + 3x - 1) - 3 \ln(x)$

Exercice 3 Chapitre 1 : fonctions réciproques Soit la fonction définie sur \mathbb{R} par :

$$f(x) = \begin{cases} \frac{x}{x+1} & \text{si } x > 0 \\ -x & \text{si } x \leq 0 \end{cases}$$

1. La fonction f est-elle continue en 0 ?

2. La fonction f est-elle dérivable en 0 ?

Mathématiques - Devoir Surveillé 2 Vendredi 22 avril 2022 - Durée : 1h30

Tout document et appareil électronique est interdit

Toute réponse doit être rigoureusement justifiée et une attention particulière sera portée à la rédaction et à la présentation.

Exercice 1 Chapitre 2 : Systèmes linéaires et matrices

1. Résoudre par la méthode de Gauss les systèmes suivants :

(a)

$$\begin{cases} 3x + y = 13 \\ 2x - 3y = -6 \end{cases}$$

(b)

$$\begin{cases} x + y + z = 0 \\ 2x + y - 3z = -10 \\ 3x + 2y + z = -1 \end{cases}$$

(c)

$$\begin{cases} 5x + 4y = 6 \\ 25x + 20y = 30 \end{cases}$$

2. Soient les matrices A et B suivantes :

$$A = \begin{pmatrix} 2 & 3 & 1 \\ 4 & 0 & 4 \\ 2 & 1 & 3 \end{pmatrix} \quad B = \begin{pmatrix} a & b & \frac{-3}{4} \\ \frac{1}{4} & \frac{-1}{4} & c \\ \frac{-1}{4} & \frac{-1}{4} & \frac{3}{4} \end{pmatrix}$$

(a) Déterminer a , b et c pour que B soit l'inverse de A .

(b) Résoudre le système suivant :

$$\begin{cases} 2x + 3y + z = 1 \\ 4x + 4z = 0 \\ 2x + y + 3z = -1 \end{cases}$$

Exercice 2 Chapitre 2 : Systèmes linéaires et matrices

1. Calculer le déterminant des matrices suivantes :

$$A = \begin{pmatrix} 5 & 1 \\ -2 & 3 \end{pmatrix} \quad B = \begin{pmatrix} 1 & 5 & -2 \\ -1 & 0 & 2 \\ 4 & 3 & 4 \end{pmatrix}$$

2. Déterminer la matrice inverse de A et de B .

3. Donner un exemple de matrice de taille 2 non inversible.

Exercice 3 Chapitre 3 : Polynômes

Les questions suivantes sont indépendantes.

1. Soient $P(X) = X^3 + X + 1$ et $Q(X) = X^4 - 3X^3 + 2X$.

Donner le degré de $P \times Q$ et $P \circ Q$.

2. Soit

$$P(X) = X^5 - 2X^4 + 3X^3 - 6X^2 - 4X + 8$$

(a) Montrer que 2 est racine de P .

(b) Effectuer la division euclidienne de $X^4 + 3X^2 - 4$ par $X^2 + 4$.

(c) En déduire la factorisation de P dans \mathbb{R} .

3. Donner un exemple de polynôme vérifiant toutes les conditions suivantes :

- P est à coefficient réels
- $2 + i$ est racine simple de P
- -3 est racine de multiplicité 3 de P
- P est de degré 6

Exercice 4 Chapitre 3 : Polynômes

On considère les fractions rationnelles suivantes :

$$F_1(X) = \frac{X + 2}{(X - 1)(X - 2)} \quad F_2(X) = \frac{X + 2}{(X + 1)^2(X - 2)}$$

$$F_3(X) = \frac{2X^2 + 1}{(X^2 + 1)(X - 2)} \quad F_4(X) = \frac{X^6 + X - 1}{X^5 - 4X^4 + 3X^3}$$

1. Faire la DES de F_1 .
2. Donner la forme de la DES de F_2 (on ne demande pas la valeur des coefficients).
3. Faire la DES de F_3 .
4. Donner la forme de la DES de F_4 (on ne demande pas la valeur des coefficients).

Mathématiques - Devoir Surveillé 3

Vendredi 17 juin 2022 - Durée : 1h30

Tout document et appareil électronique est interdit

Toute réponse doit être rigoureusement justifiée et une attention particulière sera portée à la rédaction et à la présentation.

Exercice 1 Chapitre 4 : Calcul intégral - partie 1

1. Déterminer une primitive des fonctions suivantes :

(a) $f_1(t) = 3 \sin(5t + 4) \cos^3(5t + 4)$

(c) $f_3(t) = \frac{4t+6}{(t^2+3t+2)^3}$

(b) $f_2(t) = \frac{t}{\sqrt{t^2+1}}$

(d) $f_4(t) = \frac{2}{9+4t^2}$

2. Calculer les intégrales suivantes :

(a) $I_1 = \int_{-1}^0 \frac{2x}{3t-1} dt$

(c) $I_3 = \int_{-1}^0 te^{3t+1} dt$

(b) $I_2 = \int_{-10}^{10} t^2 \sin(t^3) + 1 dt$

(d) $I_4 = \int_0^{2\pi} \sin(t) \cos(2t) dt$

Exercice 2 Chapitre 5 : Calcul intégral - partie 2

1. (a) Soit $X > 1$. Calculer $I = \int_1^X \frac{1}{(t+1)(t-2)} dt$.

(b) En déduire la nature (convergente ou divergente) de $\int_1^{+\infty} \frac{1}{(t+1)(t-2)} dt$.

2. Pour chacune des intégrales suivantes dire, en justifiant votre réponse, si elle est convergente ou divergente.

(a) $J_1 = \int_2^{+\infty} \frac{\sqrt{t}}{t^3} dt$

(c) $J_3 = \int_1^{+\infty} \sin\left(\frac{1}{t}\right) dt$

(b) $J_2 = \int_0^{10} \frac{1}{t^2} dt$

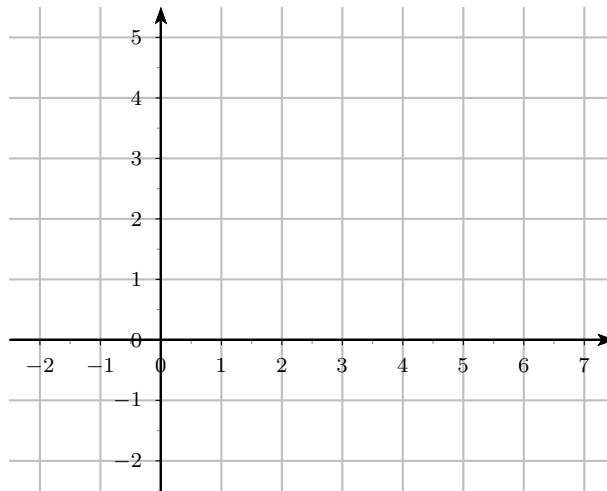
(d) $J_4 = \int_1^{+\infty} \frac{1}{\sqrt{t}} \ln\left(1 + \frac{1}{t}\right) dt$

Exercice 3 Chapitre 6 : Laplace

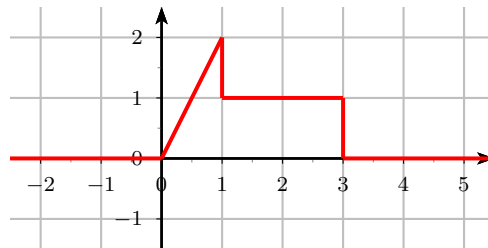
1. Soit $f(t) = 2\mathcal{U}(t-1) + (t-3)\mathcal{U}(t-3) - (3t-6)\mathcal{U}(t-4) + (2t-4)\mathcal{U}(t-5)$

(a) Donner une écriture de la fonction f sans utiliser la fonction échelon \mathcal{U} .

(b) Tracer la courbe représentative de f sur le graphique ci-dessous.



2. Définir la fonction suivante par une seule égalité (et donc en utilisant la fonction échelon \mathcal{U}).



Exercice 4 Chapitre 6 : Laplace

1. Calculer les transformées de Laplace de chacune des fonctions suivantes :

(a) $g_1(t) = te^{-2t}\mathcal{U}(t)$

(b) $g_2(t) = (t + 5)\mathcal{U}(t - 3)$

2. Calculer la transformée de Laplace inverse de :

(a) $F(p) = \frac{2}{p} + \frac{6}{p^4}$

(b) $G(p) = \frac{1}{p^2+4} + \frac{p}{p^2+9}$

Exercice 5 Chapitre 6 : Laplace On considère l'équation différentielle d'ordre 1 suivante :

$$\begin{cases} f'(t) + 3f(t) = e^{2t}\mathcal{U}(t) \\ f(0) = 4 \end{cases} \quad (\text{E})$$

1. Détermination de la transformée de Laplace F de f :

(a) Calculer en fonction de $F(p)$: $\mathcal{L}_{f'(t)}(p)$ puis $\mathcal{L}_{f'(t)+3f(t)}(p)$.

(b) Calculer $\mathcal{L}_{e^{2t}\mathcal{U}(t)}(p)$.

(c) Appliquer la transformée de Laplace à l'équation (E) et en déduire l'expression de $F(p)$ en fonction de p .

2. Détermination de f :

On admet que F peut s'écrire sous la forme : $F(p) = \frac{1}{5} \times \frac{1}{p-2} + \frac{19}{5} \times \frac{1}{p+3}$.

En déduire l'expression de $f(t)$ pour t positif.